

社會 115年國中教育會考 解析卷

年 班 號
姓名

一、單題 (1~43 題)

(A) 1. 農業部統計，受發生於 2024 年 7 月下旬的某次災害影響，全臺農業損失估計高達 33 億元，其中以雲林縣、臺南市、嘉義縣的損失尤為慘重，三個行政區農損合計超過全臺農損的一半。根據上述災害發生時間及受影響地區判斷，此災害最可能為下列何者？

- (A) 颱風帶來的豪大雨淹沒農田
- (B) 強勁東北季風吹襲造成水稻倒伏
- (C) 梅雨季節的連續降雨造成果樹浸水
- (D) 強勁西南風越過山脈形成熱風使作物枯黃

翰林版第一冊，第五章 天氣與氣候

科目【地理】

試題解析：題文提到災害發生於 2024 年 7 月下旬，且受影響地區集中於雲林、嘉義、臺南等西南部縣市，可判斷與夏季颱風侵臺有關。(B) 東北季風主要影響季節為冬季，且較常影響東北部地區；(C) 梅雨季節主要發生於 5~6 月，與題目所述 7 月下旬時間不符；(D) 西南風越過山脈形成焚風，多出現在臺東等地，並非西部農業縣市大規模農損主因。

故選【A】

(D) 2. 日本於 2019 年 4 月起，擴大從越南、菲律賓、印尼、泰國、柬埔寨、中國、緬甸、尼泊爾和蒙古招募外籍移工，以補充其看護、餐飲和建築等行業嚴重短缺的勞動力。下列何者因同樣面臨勞動力短缺及外籍移工來源國高度重疊的關係，而受上述政策執行的衝擊最大？

- (A) 印度
- (B) 美國
- (C) 德國
- (D) 臺灣

翰林版第二冊，第二章 人口組成與族群文化

科目【地理】

試題解析：日本因少子化與高齡化問題，擴大招募東南亞外籍移工，以補充看護、餐飲與建築等產業的勞動力；臺灣同樣面臨勞動力不足問題，且外籍移工主要也來自東南亞國家，因此日本擴大招募移工後，可能與同樣面臨缺工的臺灣競爭相同來源的勞動力，對臺灣造成較大衝擊；(A) 印度人口眾多，勞動力相對充足；(B) 美國移工來源較多元，並非以東南亞為主；(C) 德國主要移工來源多為東歐、西亞與非洲地區，與日本重疊性較低。

故選【D】

(C) 3. 圖(一)是某座農場的衛星影像及其農產品部分生產過程的介紹。根據圖中資訊判斷，該農場的農業



圖中長條形木架是用來曝曬該農場種植的作物果實，需定時以人工翻動果實來確保日晒程度均勻，待果實表殼乾硬，再剝除果皮與果肉，得到初級加工後留下的種子，即可上市販售。

圖(一)

活動最可能具有下列何種特色？

- (A) 作物多樣化的集約農業
- (B) 單一作物的自給性農業
- (C) 勞力密集的商业性農業
- (D) 大規模機械化的粗放農業

翰林版第四冊，第六章 漠南非洲的產業與經濟

科目【地理】

試題解析：圖中座標位於 6°N 附近，接近赤道地區，又位於 38°E，屬於東非地區。該地適合種植咖啡熱帶經濟作物；題文又提到利用木架曝曬果實、人工翻動與去除果皮果肉等加工程序，顯示此類農產品需投入大量人力進行採收與初級加工，屬於熱帶栽培業，具有勞力密集的商业性農業特色；(A) 題目未呈現多種作物混合種植的情形；(B) 產品可上市販售，並非以自給為目的；(D) 加工流程仰賴人工處理，不符合大規模機械化的粗放農業型態。

故選【C】

(A) 4. 某一平埔族族群居住在雪山山脈與中央山脈之間的平原地區，他們利用竹筏穿梭於溪流與海岸間，進行漁獵及採集活動。依據上述判斷，該平埔族族群的生活空間最可能位於現今哪一行政區？

- (A) 宜蘭縣
- (B) 苗栗縣
- (C) 屏東縣
- (D) 臺東縣

翰林版第一冊，第三章 地形

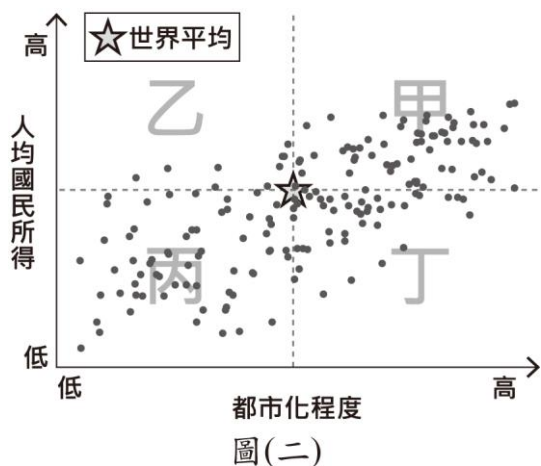
科目【地理】

試題解析：題文提及該平埔族群居住於雪山山脈與中央山脈之間的平原地區，可判斷為位於東北部的蘭陽平原。(B) 苗栗縣位於臺灣西北部，並無位於兩大山脈間的大型平原；(C) 屏東縣主要為南部屏東平原；(D) 臺東縣雖位於東部，但地形為中央山脈與海岸山脈間的花東縱谷平原，與題意描述不符。

故選【A】



- (A) 5. 圖(二)為2019年世界多數國家都市化程度與該國人均國民所得的統計圖，圖中以此兩種統計值的世界平均值為基準，劃分成甲、乙、丙、丁四個區塊。根據各洲經濟及都市發展特色判斷，歐洲西半部的國家最可能位於圖中哪一區塊？



- (A) 甲
(B) 乙
(C) 丙
(D) 丁

翰林版第五冊，第二章 歐洲區域特色與俄羅斯

科目【地理】

試題解析：圖中以都市化程度與人均國民所得的世界平均值作為分界，歐洲西半部國家多屬高度工業化與已開發國家，具有都市化程度高、人均所得高的特徵，因此應位於右上方的甲區；(B)乙區為都市化程度低但所得較高地區，較不符合西歐國家特徵；(C)丙區代表都市化與所得皆偏低，多見於開發中國家；(D)丁區雖都市化程度高，但人均所得較低，較常見於部分新興工業化國家。

故選【A】

- (D) 6. 羅馬帝國時期的作家普魯塔克在書中提到，西元前八世紀的某政權曾有「殺嬰」習俗，將不夠健壯的嬰兒放在山上等死。然而部分研究指出當時先天有缺陷的人仍受到照顧，所謂的「棄嬰山」可能只是處決罪犯之處，且文獻上也提到該政權曾選出身體有缺陷的國王。普魯塔克的說法，可能是基於當時人們熟知該政權過於重視軍事教育，所產生的錯誤印象。上述政權最可能是下列何者？
- (A) 埃及
(B) 蘇美
(C) 巴比倫
(D) 斯巴達

翰林版第五冊，第二章 古希臘羅馬文化的展開

科目【歷史】

試題解析：題幹提到「將不夠健壯的嬰兒放在山上等死」、「過於重視軍事教育」等線索，指向古希臘城邦斯巴達。(A)埃及重點在尼羅河文明、法老與金字塔，沒有題幹所說的軍事化教育形象；(B)蘇美屬於兩河流域早期城邦文明，特色是楔形文字與城邦國家；(C)巴比倫則與《漢摩拉比法典》、兩河流域帝國較相關，

三者都不符合「不夠健壯的嬰兒被棄置山上」與「斯巴達式軍事教育」的線索。

故選【D】

- (D) 7. 圖(三)是一幅漫畫，其內容最可能與下列何者有關？



圖(三)

- (A) 戈巴契夫的經濟改革成效有限
(B) 二次大戰結束後歐洲百廢待舉
(C) 徵稅問題導致波士頓茶葉事件
(D) 美國股市崩盤引發經濟大恐慌

翰林版第六冊，第三章 戰間期與第二次世界大戰

科目【歷史】

試題解析：漫畫標示時間為1931年，圖中出現「銀行倒閉的受害者」，人物抱怨自己在景氣好時已把錢存在銀行，卻仍因銀行倒閉受害，這正符合1929年美國股市崩盤後，經濟大恐慌期間銀行擠兌、倒閉與民眾存款損失的情況。(A)戈巴契夫經濟改革發生在1980年代蘇聯，時間不符；(B)二次大戰結束後歐洲百廢待舉應是1945年後的二戰後重建問題，不是1931年銀行倒閉；(C)波士頓茶葉事件發生於1773年，與英國對北美殖民地徵稅有關，所以和圖中的銀行倒閉、經濟恐慌無關。

故選【D】

- (B) 8. 「不安的情緒逐漸發酵，社會上出現『牙刷主義』一說：權貴們將資產轉至外國，並取得外國居留權，萬一局勢惡化，只要帶牙刷就能遠走高飛。政府為因應民心浮動、《中美共同防禦條約》不久後失效等危機，再次端出數年前『莊敬自強，處變不驚』口號，發起愛國捐獻、青年從軍報國，電臺日夜播放〈龍的傳人〉等愛國歌曲。」上述內容最可能與下列何者有關？
- (A) 美國在韓戰後協防臺灣海峽
(B) 美國宣布將與中華民國斷交
(C) 國共內戰使政府敗退至臺灣
(D) 臺灣受到同盟國軍機的空襲

翰林版第二冊，第五章 戰後臺灣的外交

科目【歷史】

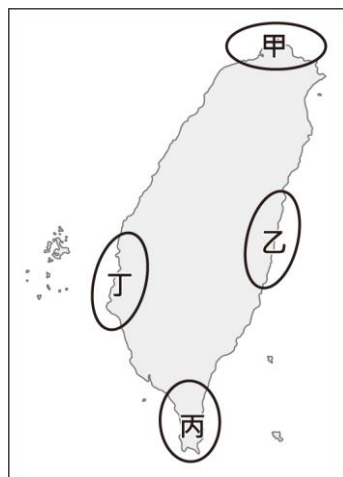
試題解析：題幹關鍵在「《中美共同防禦條約》不久後失效」、「民心浮動」、「莊敬自強，處變不驚」與播放《龍的傳人》等愛國歌曲，這些關鍵字凸顯1979年美國與中華人民共和國建交、並與中華民國斷交後，臺灣社會出現安全焦慮與信心危機的情境。(A)美國在韓戰後協防臺灣海峽，是1950年代美國第七艦隊協防臺灣，當時反而是美國介入臺海安全，與「中美共同防禦條約將失效」不符；(C)國共內戰使政府



敗退來臺發生於 1949 年，時間早於《中美共同防禦條約》的簽訂與失效；(D)臺灣受到同盟國軍機空襲是二戰末期日本統治臺灣時的事件，與中華民國政府來臺後的外交危機無關。

故選【B】

- (A) 9. 十七世紀中期，臺灣某地區原住民因能說西班牙語，且多人曾受洗為天主教徒，所以被荷蘭聯合東印度公司認為是「具西班牙人特質」的族群。上述族群最可能分布在圖(四)甲、乙、丙、丁哪一區域？



圖(四)

- (A) 甲
(B) 乙
(C) 丙
(D) 丁

翰林版第一冊，第二章 大航海時代各方勢力的競逐

科目【歷史】

試題解析：題幹關鍵是「十七世紀中期」、「能說西班牙語」、「受洗為天主教徒」、「被荷蘭聯合東印度公司認為是西班牙人特質」，這些指向西班牙人在臺灣北部活動後留下的影響；西班牙曾占據臺灣北部的基隆、淡水一帶，因此最可能是圖中的甲區。

故選【A】

- (C) 10. 家住屏東的小萱在觀賞日本動畫時，發現劇中主角的考卷上每一道試題都畫上「✓」，但卻是拿到零分，與自己考卷全被畫上「✓」時拿到滿分是不一樣的情況。查詢資料後，小萱才知道在日本畫「✓」與畫「✗」代表的都是有錯誤，而把答案畫上「○」才是代表答對的意思。上述內容最適合用來說明下列哪一現象？
- (A) 各國移民的習俗多元並存
(B) 社會制度隨著時間而變動
(C) 不同文化間存在些許差異
(D) 文化交流後產生位階高低

翰林版第二冊，第一章 社會中的多元文化

科目【公民】

試題解析：題幹重點在於日本考卷上「✓」和「✗」都代表錯誤，反而「○」才代表答對，這與臺灣一般習慣中「✓」常被視為正確不同，說明同一符號在不同文化脈絡中可能有不同意義，因此最適合用來說明文化差異。(A)強調各國移民習俗並存，但題幹敘述並非移民社會；(B)指社會制度隨時間改變，但題目比較的是日本與臺灣的符號使用差異，不是同一社會的時間變遷；(D)提到文化交流後產生位階高低，但題幹沒有呈現哪種文化較高或較低，只是在說不同文化對符號的解讀不同。

故選【C】

- (C) 11. 圖(五)是新奇科技購物網站更新前的網頁資訊，某日該網頁內容調整後，幾分鐘內商品突然銷售一空，甚至還多了數百筆的訂單等候補貨。下列何者最可能是造成上述情況的原因？



圖(五)

- (A) 供貨量變更為 19 臺
(B) 供貨量變更為 999 臺
(C) 售價變更為 9,999 元
(D) 售價變更為 20,999 元

翰林版第五冊，第三章 市場與競爭

科目【公民】

試題解析：題文提到網站更新後，商品短時間內銷售一空，代表市場需求大幅增加；當商品價格下降時，消費者購買量會提高，因此可推測原本售價 19,999 元的商品，可能誤植為 9,999 元，導致價格明顯低於市場預期，進而出現數百筆訂單等候補貨的情形；(A) 供貨量減少雖可能使商品較快售完，但不易造成大量搶購；(B) 供貨量增加反而能減少缺貨問題；(D) 售價提高通常會降低需求量，不會造成大量下單情形。

故選【C】

- (D) 12. 臭蟲又稱床蝨，因常躲在床墊中而得名，人類被叮咬後皮膚會紅腫且奇癢無比。臭蟲會隨人群移動而擴散，例如：2023 年法國爆發臭蟲危機，因觀光客、商務旅客及國際移工的遷移，使得臭蟲經由藏在行李中，蔓延至許多國家。上述內容最主要在探討下列何項議題？
- (A) 國際移工引入帶來的文化衝突
(B) 區域糾紛擴大引發的民生困境
(C) 高度工業化與氣候變遷的關係
(D) 經濟全球化對人類生活的影響

翰林版第六冊，第二章 全球化的影響與挑戰

科目【公民】

試題解析：題文提到臭蟲隨觀光客、商務旅客與國際移工的跨國遷移，並經由行李蔓延至多個國家，顯示交通運輸與人口流動頻繁，使疾病、害蟲與生活問題更容易跨越國界擴散，反映經濟全球化對人類生活的影響；(A)題文重點並非不同文化間的衝突；(B)區域糾紛通常指國家或地區間基於資源、領土、主權等產生的地緣政治衝突，與題意不符；(C)題文未提及工業化或氣候變遷議題。

故選【D】



- (C)13.表(一)為二位我國某縣縣民的部分資料，根據我國法律規定判斷，關於此二位縣民的敘述，下列何者正確？

表(一)

姓名	陳小花	吳阿杰
年齡	25歲	28歲
設籍時間	7個月	5個月
現況	受監護宣告	被宣告褫奪公權

- (A)皆具備完全行為能力
(B)皆曾受到刑事處罰判決
(C)皆無法參選該縣公職人員
(D)皆不具備該縣縣長投票資格

翰林版第三冊，第六章 政治參與

科目【公民】

試題解析：依我國法律規定，受監護宣告者會受到部分公民權利限制；受褫奪公權宣告者，則會喪失被選舉權。分析如下表：

項目	陳小花	吳阿杰
現況	受監護宣告	受褫奪公權
是否具完全行為能力	否	是
是否屬刑事處分	否(屬民法的保護制度)	是
是否可投票	是	是
是否可參選公職	否	否

依表所示兩人皆無法參選該縣公職人員，故(C)正確；(A)受監護宣告者通常已不具完全行為能力；(B)監護宣告並非刑事處分，屬民法上的保護制度；(D)縣長投票資格為設籍滿四個月，且滿20歲，因此兩人皆有投票資格。

故選【C】

- (A)14.小蔓一歲時親生父母離婚，之後與母親同住。四歲時，母親與阿德再婚，小蔓和他們兩人一起組成現在的家庭。若阿德婚後未曾進行任何法律程序改變家中成員關係，僅根據上述內容判斷，小蔓與阿德間的親屬關係應為下列何者？
(A)姻親
(B)配偶
(C)旁系血親
(D)直系血親

翰林版第一冊，第三章 家庭生活

科目【公民】

試題解析：題文提到小蔓的父母離婚後，母親與阿德再婚，這種由成員再婚所組成的家庭屬於「繼親家庭」。在法律關係上，由於題文並未提及阿德有辦理法律上的「收養」程序，因此兩人之間並不具有「擬制血親」的關係；對小蔓而言，阿德目前的法律身分僅為其「直系血親(母親)的配偶」，因此雙方屬於

「姻親」關係。

故選【A】

- (C)15.一處坐落於海拔2,430

公尺山脊上的古城遺跡，是美洲三大古文明代表性的建築之一，其建築精妙之處是將打磨過的方形石塊疊砌起來，且在沒有使用砂漿的情況下使其能如拼圖般緊密結合。此外，建築中的梯形門窗和向內微傾斜的牆面等，皆可降低建築物在地震中倒塌的可能性。上述古城遺跡最可能位於圖(六)中何處？



圖(六)

- (A)甲
(B)乙
(C)丙
(D)丁

翰林版第五冊，第四章 中南美洲

科目【地理】

試題解析：題文提到古城遺跡位於海拔約2,430公尺的山區，並具有方形石塊、梯形門窗及抗「地震」設計等特色，可判斷為南美洲印加文明代表遺址——馬丘比丘。印加文明發展於安地斯山脈地區，位於今日南美洲西部的秘魯一帶，因此應位於圖中的丙地；(A)甲位於北美洲；(B)乙位於中美洲，較接近馬雅文明分布區；(D)丁位於巴西，並非安地斯山區文明所在地。

故選【C】

- (A)16.表(二)顯示2016至2019

表(二)

年分	航行次數(次)
2016	1,705
2017	1,908
2018	2,022
2019	2,694

年歐洲與亞洲之間，行經北極地區某條海運航線的航行次數統計。根據表中數字判斷，此種變化除了受到全球經濟持續成長所帶動的海運需求增加外，最可能還受下列何者的影響？
(A)海冰融化大幅增加
(B)全球生態保育意識興起
(C)巴拿馬運河通行費調漲
(D)《區域全面經濟夥伴協定》生效

翰林版第五冊，第六章 兩極地區與全球氣候變遷

科目【地理】

試題解析：表中數據顯示2016至2019年歐洲與亞洲之間行經北極地區的海運航線次數明顯增加。此現象除了受到全球經濟成長帶動運輸需求影響外，最關鍵的自然條件為：(A)全球暖化導致北極海冰融化增加，使船舶更容易通行北極航道，大幅縮短歐亞間的航程，因而促使航行次數上升。(B)生態保育意識興起通常會促使國際更重視北極的環境風險與管制，不



會直接導致航線大增；(C)傳統上歐洲與亞洲之間的海運航線主要是行經「蘇伊士運河」，而非位於美洲的「巴拿馬運河」；(D)《區域全面經濟夥伴協定》(RCEP)主要為亞太地區的經貿協定，且其生效時間為 2022 年，與題幹所述的 2016 至 2019 年時間點不符。

故選【A】

(B)17.報導指出：「在俄烏戰爭爆發之前的 3 年裡，歐盟成員國平均每月從俄羅斯進口約 1,520 萬噸原油和石油產品，到了 2023 年 3 月，該值已下降至 140 萬噸。歐盟預計 2027 年切斷從俄羅斯的化石燃料進口，擺脫對其能源依賴。」下列何項措施無助於達成上述目標？

- (A)制定公共場所更嚴格的暖氣供應標準
- (B)促使石油輸出國家組織維持減產政策
- (C)與其他第三國簽署天然氣的進口協議
- (D)積極發展綠能以增加替代性能源產量

翰林版第四冊，第四章 西亞與北非的衝突與轉變
科目【地理】

試題解析：題幹目標是歐盟要擺脫對俄羅斯化石燃料的依賴，因此有效作法應該是「降低化石燃料需求」或「尋找非俄羅斯能源來源」；但若促使石油輸出國家組織維持減產，反而會讓全球石油供給減少、油價上升，歐盟取得替代能源的壓力更大，無助於降低對俄羅斯能源的依賴。(A)若公共場所暖氣供應標準更嚴格，可降低能源消耗；(C)與其他第三國簽署天然氣進口協議，可以分散來源、替代俄羅斯天然氣；(D)發展綠能可增加替代性能源產量，長期減少對化石燃料的依賴。

故選【B】

(B)18.中國黃河是世界上含沙量最高的河流，但 2024 年 1 月，有遊客在陝西壺口瀑布拍攝到「清流飛瀑」的壯觀景象，其實早在 2020 年就曾有報導指出，壺口的黃河河水變清了。事實上「黃河清」很罕見，歷史上的記載只有 43 次。黃河於 2024 年 1 月出現上述景象，最可能與下列何者關係較為密切？

- (A)瀑布上游流經黃土高原，支流帶入大量泥沙
- (B)瀑布上游實施造林固沙政策，減少泥沙流入
- (C)瀑布下游恰逢雨季，大量降水使得流量增加
- (D)瀑布下游興築壩堤，以壩堤攔阻泥沙變良田

翰林版第三冊，第一章 中國的自然環境

科目【地理】

試題解析：黃河含沙量高主要與中上游流經黃土高原有關，此地地形土質疏鬆且易受侵蝕；若上游推動造林、固沙、水土保持等政策，就能減少泥沙被沖刷進入河川，使河水變清，因此(B)最符合題意。(A)說支流帶入大量泥沙，反而會讓黃河更混濁；(C)雨季大量降水通常會增加逕流與沖刷，可能帶入更多泥沙；(D)下游興築攔壩，主要是影響水壩以下的河流水量，無法直接影響壺口瀑布處的河水含沙量。

故選【B】

(A)19.圖(七)摘錄自中國歷史上某一組織的文件，根據內容判斷，此

奉天命、奉佛法，誅殺洋人、消滅教匪，以保國家。
每當神明附身，即能辨識對方是否為教匪，從未錯殺一人。

圖(七)

組織最可能為下列何者？

📖 教匪：此處指西方宗教的傳教士和教徒。

- (A)義和團
- (B)同盟會
- (C)滿洲國
- (D)中國共產黨

翰林版第三冊，第五章 西力衝擊下的東亞世界

科目【歷史】

試題解析：圖中文字出現「奉天命」、「誅殺洋人」、「消滅教匪」等內容，而題目也註明「教匪」指西方宗教傳教士和教徒，這正符合清末具備宗教色彩義和團「扶清滅洋」的特色，因此最可能是義和團相關文件。(B)同盟會主張推翻滿清、建立民國，重點是革命與民族主義；(C)滿洲國是日本扶植的傀儡政權，時間在 1930 年代，與清末排外運動不符；(D)中國共產黨以馬克思主義、階級革命為核心，不會以「神明附身」辨識教匪這類民間信仰語言作為主要動員依據。

故選【A】

(B)20.表(三)是中國歷史上三則與生活相關的資料：上述資料最可能與下列何者有關？

- (A)商周到秦漢的族群交流
- (B)魏晉到隋唐的民族互動
- (C)宋朝到元朝的國際交流
- (D)明清時期東亞世界的變遷

表(三)

資料一	西元七世紀時，從中亞引進的馬匹最受歡迎，其高大、速度快，深受貴族和皇室喜愛。
資料二	西元七世紀，羊肉的消費量大為提高。八世紀上半葉，隴右(今甘肅)飼養的羊隻，成長了二倍多。
資料三	西元八世紀中期，貴族婦女騎馬出門，戴胡帽並展露出妝容。

翰林版第三冊，第二章 商周至隋唐時期的民族與文化

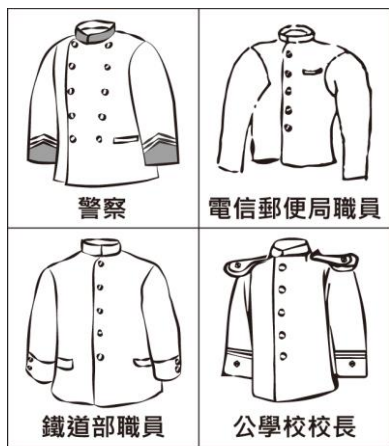
科目【歷史】

試題解析：表中時間集中在西元七、八世紀，正是隋唐時期，內容提到從中亞引進馬匹、羊肉消費增加，以及貴族婦女騎馬、戴胡帽等現象，反映唐代社會受到北方民族與西域文化影響，呈現出胡漢融合、兼容並蓄的多元特色。(A)商周到秦漢時間過早，亦無法對應胡漢融合的文化特色；(C)宋朝到元朝時間較晚，且資料重點並非海上貿易或蒙古帝國下的國際交流；(D)明清時期較晚，此時對應的局勢應為東亞世界的變遷，應指歐洲人來到東亞地區的文化衝擊。

故選【B】



(D)21. 圖(八)為臺灣某一官方資料中，所收錄當時四種公務人員制服樣式圖。根據內容判斷，此官方資料最可能是下列何者？



圖(八)

志：記錄地方事物的書籍。
類纂：分類整理的檔案。

- (A) 《臺灣府志》
(B) 《熱蘭遮城日誌》
(C) 《中華民國行政院公報》
(D) 《臺灣總督府公文類纂》

翰林版第二冊，第一章 日治時期的政治

科目【歷史】

試題解析：圖中出現警察、電信郵便局職員、鐵道部職員與公學校校長等制服，皆為日治時期臺灣總督府推動殖民統治與現代化建設下的重要官方職位，反映當時政府行政、交通、教育與郵政制度的發展。(A)《臺灣府志》為清代地方志書，內容以地方行政與地理紀錄為主；(B)《熱蘭遮城日誌》為荷蘭統治時期文獻；(C)《中華民國行政院公報》屬二戰後政府出版資料，與日治時期年代不符。

故選【D】

(C)22. 十九世紀晚期美國政府取得一處亞洲殖民地，曾陷入要延續先前的殖民體系，或允許該地獨立的兩難。美國總統決定延續殖民體系，結合當時流行的學說，發表一段談話：「美國必須以現代教育和基督教文化，教化欠缺能力的殖民地人民，提升其素質。靠著神的恩典，盡我們所能做到最好。」上述談話，最能體現下列何者？

- (A) 因信得救
(B) 天賦人權
(C) 社會達爾文主義
(D) 極權政治的興起

翰林版第六冊，第二章 帝國主義與第一次世界大戰

科目【歷史】

試題解析：題文提到十九世紀晚期美國取得亞洲殖民地後，主張以現代教育與基督教文化「教化」當地人民，內容應是在描述美國於美西戰爭後統治菲律賓的情況；當時美國認為殖民地人民「欠缺能力」、需要被提升素質，反映帝國主義國家以西方文明優越論合理化殖民統治的觀念，最能展現社會達爾文主義；此思想將達爾文的「適者生存」概念套用於人類社會，認為強國統治弱國是自然且合理的現象；(A)因信得救為基督新教(路德教派)的教義，與帝國主義合理化殖民無直接關聯；(B)天賦人權強調人生而平等自由，與殖民統治精神相反；(D)極權政治興起主要出現在二十世紀兩次大戰之間的戰間期。

故選【C】

(B)23. 甲國面臨勞動力不足的窘境，因此該國政府研擬放寬外國籍人士申請永久居留的條件，並開放配偶、親屬可一同移入長期居留，希望提高外國籍勞工居住在該國提供勞動力的意願。藉由上述政策而取得在甲國永久居留資格者，與甲國國民在權利義務的異同，若從我國法律規定的角度分析，下列何項敘述最適當？

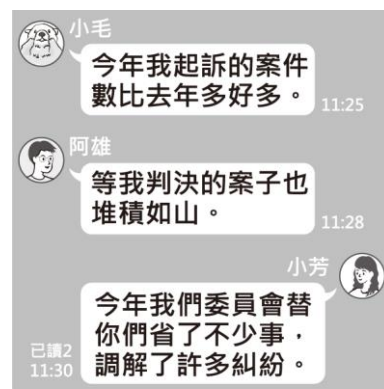
- (A) 皆具有參與公民投票的資格
(B) 皆具有發表時事評論的自由
(C) 皆具有擔任民意代表的機會
(D) 皆具有接受國民教育的義務

翰林版第一冊，第一章 公民與公民德性
科目【公民】

試題解析：題文提到甲國開放外國人申請永久居留，取得永久居留資格者雖可長期居住並工作，但不具有我國國籍，並非我國國民。依我國憲法規定，(A)(C)公民投票與擔任民意代表皆屬參政權，限本國公民擁有之權利；(D)接受國民教育為國民的權利與義務，並非永久居留者享受與負擔。

故選【B】

(B)24. 圖(九)是三位好友在通訊軟體上的聊天內容，根據三人的對話判斷其身分，下列何者最可能是圖中提及三種職權範圍內都可處理的糾紛？



圖(九)

- (A) 甲趁乙不注意時偷拿乙的皮包
(B) 甲遭乙騎車撞倒導致手腳擦傷
(C) 甲向乙借一百萬元卻逾期不還
(D) 甲不服乙開立的交通違規罰單

翰林版第四冊，第四章 刑事案件的追訴
科目【公民】

試題解析：圖中小毛提到「起訴的案件」，可判斷其身分為檢察官，負責偵查犯罪並代表國家提起公訴；阿雄提到「判決的案子」，可判斷其為法官，負責審理案件並依法做出裁判；小芳則提到「調解紛爭」，應為鄉鎮市區調解委員會人員，專責協助民眾進行法律調解。本題的解題關鍵在於尋找此三人的職權「皆能處理」的糾紛類型，即「刑事的告訴乃論案件」；因此三人職業皆可能接觸到「甲騎車撞倒乙造成受傷」的車禍案件，此類事件涉及《刑法》的過失傷害罪，屬於告訴乃論之罪。其餘選項：(A)偷拿皮包屬於「竊盜罪」，為刑事的非告訴乃論案件(公訴罪)，依法不得進行刑事調解；(C)借款不還屬於一般的民事債務糾紛，不涉及刑事責任，故不須經由檢察官偵查；(D)不服交通違規罰單屬於行政爭訟案件，僅能行政救濟程序解決。

故選【B】



(A)25.「我國原本由宏都拉斯進口大量白蝦，但2023年與該國斷交後，我國恢復對該國產品課徵關稅，部分進口業者的營運遭受衝擊，進口量大幅下滑。我國官員受訪時提及，2025年將開放貝里斯的白蝦零關稅進口至我國，以增加商品供應來源。」僅根據上述內容判斷，關於此二項進口政策變化產生的各別影響，下列何項推論最合理？

- (A)受到對貝里斯政策的影響，我國市場上白蝦的售價下降
- (B)受到對貝里斯政策的影響，貝里斯的貿易出超金額下降
- (C)受到對宏都拉斯政策的影響，宏都拉斯的貿易出超金額上升
- (D)受到對宏都拉斯政策的影響，我國白蝦市場的競爭程度上升

翰林版第五冊，第四章 分工與貿易

科目【公民】

試題解析：題文提到我國與宏都拉斯斷交後，恢復對其白蝦課徵關稅，導致進口量下降；另一方面，未來將開放貝里斯白蝦零關稅進口，以增加商品供應來源。依關稅與市場供需概念分析如下表：

比較項目	宏都拉斯 (課徵關稅)	貝里斯 (零關稅)
進口成本	提高	降低
白蝦進口量	降低	提高
我國白蝦價格	提高	降低
市場競爭程度	降低	提高
出口國 貿易收入	降低	提高

因此(A)推論最合理，開放貝里斯白蝦零關稅進口後，市場供給增加，白蝦售價下降；(B)貝里斯出口量增加，貿易出超上升；(C)宏都拉斯出口量下降，貿易出超下降；(D)課徵關稅後進口減少，市場競爭程度通常會降低，而非上升。

故選【A】

(B)26.在公民課的分組活動中，小華與同組同學打算以短劇的方式，呈現民眾解決民事紛爭的途徑及結果。表(四)是該組同學在討論時提出的各種情境，若小華負責編寫劇本，他應選擇下列何項組合才符合我國的法律規定？

表(四)

途徑	甲	當事人至法院提告對方違反契約
	乙	被害人委任律師向法院提出自訴
結果	丙	被告遭到法院判決處以罰金
	丁	雙方在法院達成訴訟上和解

- (A)甲、丙
- (B)甲、丁
- (C)乙、丙
- (D)乙、丁

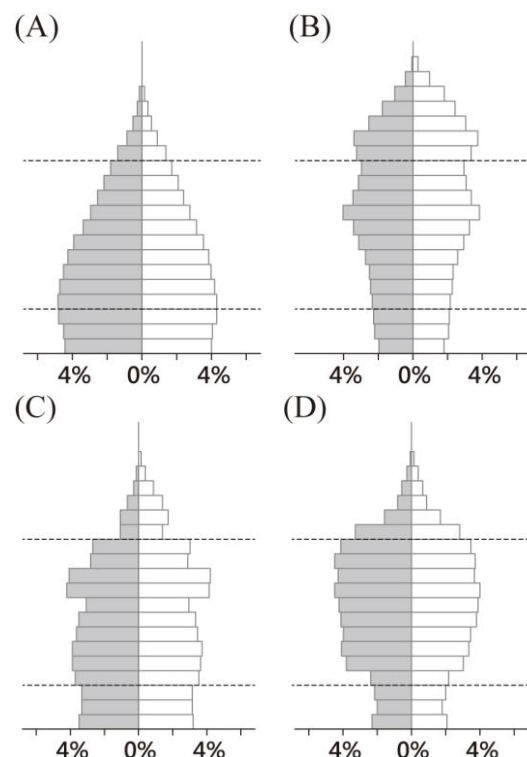
翰林版第四冊，第二章 民事糾紛的解決

科目【公民】

試題解析：題幹核心在於「民眾解決民事紛爭」。若發生契約糾紛，當事人可依法向法院提起民事訴訟，主張對方違反契約並請求救濟，故(甲)符合；而在民事訴訟程序中，雙方也可能在法官主持下達成「訴訟上和解」，其效力與確定判決相同，因此(丁)亦符合。相反地，(乙)的「自訴」屬於刑事案件中，被害人未經檢察官偵查、直接委任律師向法院提起訴訟以追訴犯罪的程序，與民事紛爭無涉；(丙)的「罰金」則是《刑法》所規定的主刑之一，並非民事案件的解決結果（民事案件的結果通常為損害賠償、履行契約或返還財產等）。

故選【B】

(A)27.因應國際趨勢，跨國企業近年將部分生產線從中國分散至其他國家。其中甲國2020年的人口金字塔顯示壯年人口比例近70%，且未來數十年仍占極高比例，再加上該國工資明顯低於中國，而成為跨國企業布局的主要選擇之一。依據上述資訊，甲國的人口金字塔最可能為下列何者？



科目【地理】

試題解析：題幹說甲國在 2020 年「青壯年人口比例近 70%」，且未來數十年仍會占極高比例，代表人口金字塔應呈現下層與中下層較寬、老年人口較少的型態，圖中最符合的是(A)。(B)中間與上方比例較大，顯示人口結構較成熟，未來青壯年優勢不如(A)明顯；(C)青壯年雖多，但底部已明顯縮窄，代表開始出現生育率下降的現象，未來勞動人口可能下滑；(D)中老年人口比例偏高、底部不夠寬，較接近高齡化或即將高齡化的型態，不符合「未來數十年仍有大量青壯年人口」的條件。

故選【A】

- (A)28.「2018 年 1 月 23 日 17 時 32 分(臺灣時間)，於阿拉斯加南方海域發生規模 8.0 的地震，震央在西經 149.20 度，北緯 56.00 度。該區域的海嘯警報中心研判可能引發海嘯，經初步推算，該地震所引發的海嘯，將不會影響臺灣。」根據震央位置判斷，上述海嘯警報中心應是下列何者？
- (A)太平洋海嘯警報中心
 - (B)印度洋海嘯警報中心
 - (C)加勒比海海嘯警報中心
 - (D)東北大西洋暨地中海及相連海域海嘯警報中心

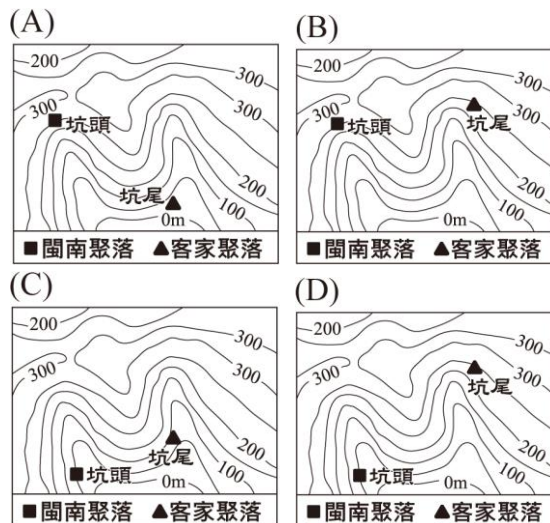
翰林版第五冊，第三章 北美洲

科目【地理】

試題解析：題幹提及地震「震央位於西經 149.20 度、北緯 56.00 度」，也就是阿拉斯加南方海域，屬於北太平洋邊緣，因此若研判可能引發海嘯，應由負責太平洋地區海嘯監測與警報的太平洋海嘯警報中心處理。(B)印度洋位於非洲東岸、印度半島、東南亞與澳洲之間，大致多在東經 20~140 度、低緯到中緯一帶；(C)加勒比海位於中美洲與南美洲北方附近，約在西經 60~90 度、北緯 10~25 度一帶；(D)東北大西洋與地中海位於歐洲、北非附近，大致在西經 30 度到東經 40 度、北緯 30~60 度一帶。

故選【A】

- (B)29.根據學者研究，臺灣地名中的「坑」為閩南族群與客家族群通用來指稱溪谷的用字，常與「頭」、「尾」連用來辨別聚落在溪谷內的位置。例如閩南族群的地名「坑頭」，是指聚落位在溪流的上游；客家族群則是依開墾順序命名，拓墾通常由河谷下游往上游進行，最後開墾的聚落則以「坑尾」命名。下列哪一示意圖最符合上述兩族群坑頭及坑尾聚落位置的命名原則？



翰林版第六冊，第二章 臺灣聚落地名

科目【地理】

試題解析：題幹的判斷重點是：閩南族群用「坑頭」表示溪流上游，而客家族群因拓墾多由河谷下游往上游進行，最後開墾處稱「坑尾」，所以「坑尾」也應位在較上游、較接近溪谷末端的位置，判斷河谷的方式為從等高線圖中，V 字形尖端朝向高處，而圖中的上游(高處)位於中間偏上的地方。

	閩南「坑頭」 應位於溪流上游	客家「坑尾」 應位於溪流較上游
A	符合	不符合
B	符合	符合
C	不符合	不符合
D	不符合	符合

故選【B】

- (A)30.以下為一份契約的內容：「立賣契人竹塹社一均。因本社稅賦繁重，加上能捕到的鹿變少，經過內部共同討論，願將本社管轄的貓兒錠一處草地，由漢人郭弈榮承買，時價銀二十兩。該處土地由郭弈榮開築埤圳，招募佃戶，開墾後報官取得土地權利，並且每年仍補貼竹塹社的稅賦銀二十兩。」對於上述契約內容的理解，下列何者最適當？
- (A)官府的賦稅，影響原住民土地經營方式
 - (B)竹塹社原住民，當時被官府歸類為生番
 - (C)漢人承買土地，是為了捕獵更多的鹿隻
 - (D)竹塹社受到漢人脅迫，舉社向東部遷徙



翰林版第一冊，第六章 清帝國時期社會文化的變遷

科目【歷史】

試題解析：契約中明確提到竹塹社因「本社稅賦繁重」且可捕獵的鹿隻減少，因而將草地賣給漢人開墾，並約定每年仍需補貼竹塹社稅賦。這顯示原住民社群在政府賦稅壓力與傳統捕鹿收入減少的雙重打擊下，不得不改變土地經營與利用方式，選擇將土地轉讓或交由漢人開墾以維持生計。(B)竹塹社屬於臺灣西部的平埔族群，在清代已被納入清廷的治理體系，屬於「熟番」，而非「生番」；(C)漢人承買土地後，主要是為了開築埤圳、招募佃戶以進行「農業拓墾」，並非為了捕鹿；(D)契約內容僅能看出經濟與賦稅壓力促使竹塹社轉變土地利用方式，並未呈現漢人有脅迫行為，亦未提及整社向東部遷徙的情形。

故選【A】

- (B)31. 「法國國王為課徵新稅以解決財政危機，決定重新恢復自 1614 年以來未再召開的諮詢機關，各界為此選出 1,139 名代表，來到凡爾賽宮進行稅制改革。代表們帶著來自全國各階層的陳情書，其內容遠遠超出財政危機的問題。」上述「諮詢機關」，最可能是下列何者？
- (A)巴黎和會
(B)三級會議
(C)關稅同盟
(D)聯合國大會

翰林版第六冊，第一章 現代國家建立

科目【歷史】

試題解析：題幹提到法國國王為解決財政危機，召集三個階級的代表參與稅制改革，此內容描述的是「三級會議」。當時法王路易十六因財政陷入困境，企圖透過召開會議進行徵稅改革以解決危機，然而第三階級代表進一步提出政治改革與保障人民權利等訴求，最終促使法國大革命爆發。(A)巴黎和會為第一次世界大戰後召開的國際和平會議；(C)關稅同盟為十九世紀德意志各邦聯間建立的經濟合作組織，與法國此時的內政危機無涉；(D)聯合國大會則為二戰後國際組織的最高權力機構。

故選【B】

- (D)32. 一位檢察官在法庭陳述意見時提到：「本次的違法事件，就是臺灣人意圖謀反，目的是從帝國手中奪取臺灣。帝國目前對臺灣的統治，實在過於優厚，而臺灣人不知感恩，竟然要求設置臺灣議會。臺灣人如果反對現行統治方針，不願做日本國民，那就離開臺灣吧。」上述「統治方針」應是下列何者？
- (A)實施軍事戒嚴
(B)終止動員戡亂
(C)貫徹民族自決
(D)推行內地延長

翰林版第二冊，第三章 日治時期的社會文化

科目【歷史】

試題解析：題文提到臺灣人要求設置「臺灣議會」，其內容是在描述日治時期 1920 年代蔚為風潮的「臺灣議會設置請願運動」。由此可知，文中所指的「統治方針」，應為日本政府當時在臺推行的(D)「內地延長主義」時期（1919~1937 年）。(A)「軍事戒嚴」多屬於戰時或面臨重大動亂時期的極權高壓統治；(B)「動員戡亂」為戰後中華民國政府因應國共內戰所實施的國家緊急狀態政策，與日治時期無涉；(C)「民族自決」雖是當時激勵臺灣知識分子爭取權益的「國際思潮」，但其強調民族自主建立國家，並非日本殖民政府的在臺統治政策。

故選【D】

- (A)33. 以下是中國某時期重要人才選用方式的敘述：「脫穎而出者由皇帝親授官職，經過十餘年的歷練，就有機會執掌國政。當時人為之曾評論道：『就算是今日帶領數十萬大軍伐遼，從契丹人手中奪回燕雲十六州，其榮耀都比不上呢！』」上文「脫穎而出」的方式，最可能為下列何者？
- (A)通過科舉考試入仕
(B)向天朝納貢受冊封
(C)奉旨前往德國留學
(D)依九品官人法獲評上品


翰林版第三冊，第三章 宋元多民族並立的時期

科目【歷史】

試題解析：題文提到「從契丹人手中奪回燕雲十六州」，可判斷其時代背景為北宋時期。燕雲十六州原遭契丹建立的遼國所控制，而文中提及人才需「脫穎而出」後再由皇帝授予官職，符合宋代透過「科舉制度」選拔官員的歷史特色。科舉制度強調以公平考試選拔人才，讀書人需經過逐級考選後，才有機會進入政府任官；(B)向天朝納貢受冊封是明清時期與周圍其他國家交流的模式，並非是國內人才的選拔方式；(C)赴德國留學屬晚清自強運動後興起的近代人才培育方式；(D)九品官人法為魏晉南北朝時期依家世門第與聲望選才的制度，並非以考試為主。

故選【A】

- (C)34. 圖(十)是某博物館所展出的文物。根據圖中內容判斷，此文物最可能於何時何地製作？
- (A)西元前六世紀的西亞地區
(B)西元前一世紀的南歐地區
(C)西元九世紀的西歐地區
(D)西元十四世紀的中南美洲地區



圖(十)

翰林版第五冊，第三章 普世宗教的發展

科目【歷史】

試題解析：圖中文物以拉丁文刻寫《新約聖經》經文，可據此判斷其與基督教文化密切相關。由於拉丁文為中古歐洲 基督教世界的核心文字，因此該文物最可能製作於基督教盛行的中古西歐地區。「中古時期」介



於西元五世紀至十五世紀之間，故(C)西元九世紀的西歐地區正符合此一時空背景。其餘選項：(A)、(B)兩者的時間點皆在基督教創立之前，當時尚未誕生基督教文化；(D)西元十四世紀的中南美洲尚未受到大航海時代（十五世紀末開始）歐洲殖民勢力的影響，因此不可能出現以拉丁文書寫的《聖經》。

故選【C】

(C)35.老師在課堂上講解權力分立的概念，說明如何透過分權制衡的機制，以避免政府濫權或侵害人民的權利，這種政府體制運作的原則，廣為多數民主國家所採用。下列何者的互動關係符合上述概念？

- (A)總統任命執政黨的黨員擔任行政院院長
- (B)縣長推動觀光活動以籌措地方政府財源
- (C)行政院對於窒礙難行的法案提出覆議
- (D)民眾為表達對政策不滿上街遊行抗議

翰林版第三冊，第三章 權利保障與權力分立

科目【公民】

試題解析：題文提到政府透過「分權制衡」以避免權力過度集中。選項中，(C)行政院對立法院通過的法律案提出覆議，屬於行政權對立法權的制衡機制，完全符合民主政治中權力分立與相互制衡的精神。(A)總統任命執政黨黨員擔任行政院院長，屬於憲法賦予總統的人事任命權，不屬於機關間的權力制衡；(B)縣長推動觀光活動，屬於地方政府推行地方自治與行政事務的範疇；(D)民眾上街抗議，屬於人民行使《憲法》保障的集會自由與表達意見（屬於外部的輿論監督），並非政府機關內部的分權制衡。

故選【C】

(C)36.臺北市為維護選舉時的市容景觀和秩序，制定《臺北市競選廣告物管理自治條例》，透過地方法規限制競選廣告的設置，違規者將被處以罰鍰，並限期移除廣告。但有人認為該法規的規範不夠明確，參選者仍可以形象廣告的方式刊登廣告，以致許多民眾覺得競選廣告並沒有減少，希望相關單位能予以修正。關於上述法規的敘述，下列何者最適當？

- (A)臺北市採行正向誘因，處理競選廣告違規問題
- (B)該條例若需修正，應由立法院依照規定三讀通過
- (C)違規受罰者若不服處分，可提起訴願進行權利救濟
- (D)政府透過刑事處罰手段，預防選舉期間發生犯罪行為

翰林版第四冊，第五章 行政法規與行政救濟

科目【公民】

試題解析：題幹中的《臺北市競選廣告物管理自治條例》是臺北市的地方自治法規，若有人違反競選廣告設置規定而被處以罰鍰、限期移除廣告，屬於行政機關作出的行政處分；受處分人若認為處分不當或違法，可以依法提起訴願，這是行政法上的權利救濟程序。(A)因為政府限制競選廣告設置，主要是為了維護市容、交通安全與公共秩序，不是以「正向誘因」，

而是以「負向誘因」處理違規問題；(B)地方自治條例的修正通常由地方立法機關，也就是臺北市議會依法審議通過，不是由中央立法機關的立法院三讀通過；(D)違規設置競選廣告被罰鍰屬於行政罰，並非刑事處罰，目的也不是預防犯罪行為。

故選【C】

(D)37.甲團體常透過統計數據

表(五)

各項會議平均出席率	91.7%
法律修正案的提案件數	12件
預算審查參與率	80.3%

評鑑某中央政府機關的公職人員，並在社群媒體上公布報告，表(五)為其中一位公職人員的統計數據。有民眾認為這些數據僅能呈現工作量，無法看出工作品質，因此留言建議可以增列其他評鑑項目。根據上述內容判斷，增列下列哪一項項目最有助於評鑑此種公職人員的表現？

- (A)對不當施政的糾正案件數
- (B)各類訴訟案件的審理進度
- (C)公共工程預算的編列金額
- (D)對各部會首長的質詢內容

翰林版第三冊，第四章 中央政府

科目【公民】

試題解析：由表格中的「法律修正案提案件數」、「預算審查參與率」、「會議出席率」等評鑑指標判斷，該公職人員最可能是立法委員；因此若要增加評鑑項目，應選擇符合立法院職權之內容。依我國憲法規定，立法院具有制定與修正法律、審查中央政府總預算，以及質詢行政機關首長等功能，故(D)對各部會首長的質詢內容最適合列入評鑑。(A)針對不當施政提出「糾正」，屬於監察院對行政機關的職權；(B)訴訟案件的審理進度，屬於司法院（各級法院）行使司法審判權的範疇；(C)公共工程預算的「編列」主要屬於行政機關（行政院）的權責（立法院負責的是「審查」而非編列），因此上述三者皆非立法機關公職人員的主要職責。

故選【D】

(D)38.有環保團體推出「掃了再買」APP，民眾只要使用這個APP掃描商品條碼，就能看到商品製造商有沒有因違反環保法規遭罰的紀錄。該團體希望藉此能提供消費者更充足的資訊，幫助他們在購物時判斷是否要購買，甚至改變原先的選擇，並期許生產者為其生產行為負起責任，而優良企業也能獲得消費者肯定。關於上述環保團體推出的手機APP，下列敘述何者最適當？

- (A)有助於增加消費者的購物支出
- (B)呈現出法律變革影響科技發展
- (C)揭露各企業曾經發生的民事紛爭
- (D)藉由影響個人偏好改變消費行為



科目【公民】

試題解析：題幹所述之「掃了再買」APP，旨在讓消費者在購物前得以查詢製造商是否曾違反環保法規。透過公開這類環境友善與否的資訊，能有效影響重視環境保護之消費者的心理傾向，進而調整或改變其原本的購買決策，落實「綠色消費」的概念，此即為(D)藉由影響個人偏好改變消費行為。(A)該APP的核心功能在於提供充分的決策資訊，協助消費者做出符合自身價值的選擇，而非以增加其購物支出為目的；(B)題文呈現的是民間團體自主利用「科技發展(手機APP)」作為工具來揭露資訊，而非受到「法律變革」所推動；(C)企業因違反環保法規而遭受處罰，在法律上屬於違反行政法規而面臨的「行政責任(行政罰)」，並非屬於私人或企業間的「民事紛爭」。

故選【D】

(B)39.「官軍從鹿港登陸以後，很快就摧破賊巢、痛殲匪眾。只是現在『逆首』竄入內山，而內山情勢複雜，因此搜捕的工作必須加快。昨日又有官員建議，為了紀念這次事件，除了將諸羅改名嘉義外，臺灣二字也應該一併改名。我認為這就是放著修建城池、增設兵卒的正經事不管，只留心在沒用的地方，以後不許再提臺灣改名的事。」文中「逆首」最可能是下列何者？

- (A)朱一貴
- (B)林爽文
- (C)余清芳
- (D)莫那魯道

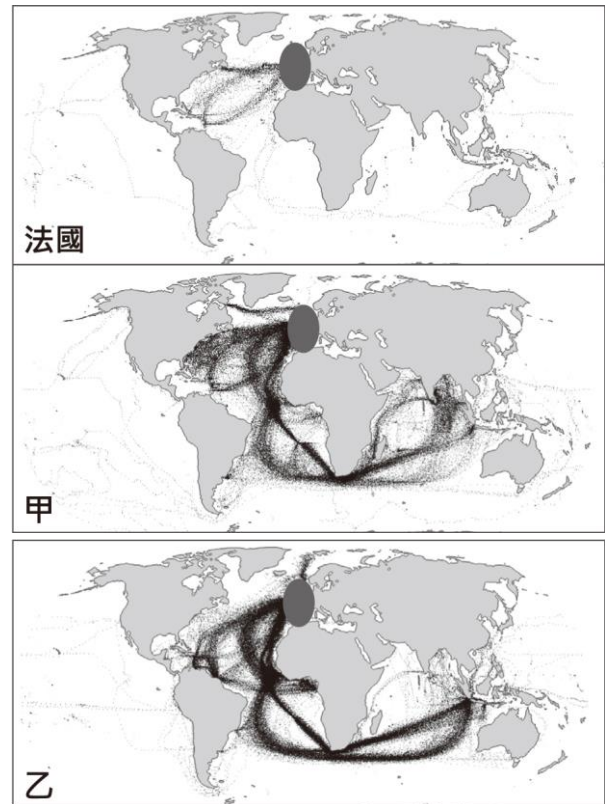
翰林版第一冊，第四章 清帝國統治政策的變遷

科目【歷史】

試題解析：題幹的核心解題關鍵為「將諸羅改名嘉義」，此典故指向清領時期的「林爽文事件」。清代乾隆年間林爽文率眾起事，清廷隨後派兵來臺鎮壓；其間諸羅縣因軍民堅守城池、協助官軍對抗反抗軍，事後乾隆皇帝為「嘉其忠義」，遂將諸羅縣改名為「嘉義」。由此可知，文中所稱的「逆首(反抗軍首領)」最可能指的就是(B)林爽文。(A)朱一貴為康熙末年爆發的臺灣最早的大規模民變，時間點早於林爽文事件；(C)余清芳為日治時期1915年「西來庵事件(又稱噶吧嘍事件)」的抗日領袖；(D)莫那魯道則為日治時期1930年「霧社事件」的原住民抗日首領。

故選【B】

(A)40.某研究案根據1750至1850年代各國船隻的航海日誌，將航行軌跡繪製成圖(十一)。儘管船隻可能前往世界各地，但仍以各國殖民地或勢力範圍為主要目的地，例如圖中法國船隻，軌跡主要集中於北美和西印度群島的法國殖民地。圖中「甲」、「乙」最可能是下列何者？



圖(十一)

- (A)甲：英國、乙：荷蘭
- (B)甲：荷蘭、乙：西班牙
- (C)甲：葡萄牙、乙：英國
- (D)甲：西班牙、乙：葡萄牙

翰林版第五冊，第五章 多元世界的互動

科目【歷史】

試題解析：圖中甲的航跡範圍最廣，符合十八、十九世紀英國以北美、加勒比海、印度等殖民地與勢力範圍為核心的全球海權網絡；乙的航線集中在歐洲出發，經非洲南端進入印度洋與東南亞群島，較符合荷蘭以好望角、錫蘭(斯里蘭卡)、東印度群島等地為重心的殖民貿易活動。(B)荷蘭的航線不應像甲那樣廣泛涵蓋英國式全球殖民網絡，而西班牙航線也應更明顯連向中南美洲殖民地；(C)葡萄牙殖民重心多與巴西、非洲、印度洋航線有關，不符合甲的龐大全球分布，乙也不如英國航線那樣廣泛；(D)西班牙與葡萄牙的殖民航線重心應偏向拉丁美洲、非洲與印度洋舊殖民據點，無法對應圖中甲、乙所呈現的英國與荷蘭航海活動特色。

故選【A】



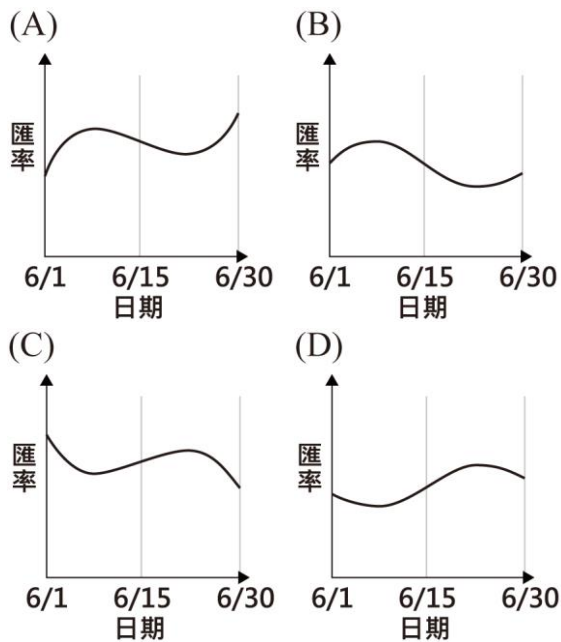
(B) 41. 甲國進口商小

莫固定在每星期一、四，以相同乙幣價格，從乙國進口相同數量的某商品至國內販售，並

在交易當天將甲幣兌換為乙幣完成付款，表(六)是他在 2020 年 6 月 8 日及 6 月 22 日的受訪內容。根據表中內容判斷，下列何者最可能是該年 6 月時，每一甲幣兌換乙幣的匯率變化？

表(六)

日期	受訪內容
6 月 8 日 星期一	就匯率來說，6 月初至今，每次花費的成本一次比一次低。
6 月 22 日 星期一	就匯率來說，今天所花費的成本是 6 月至今各次中最高的。



翰林版第五冊，第五章 貨幣的使用

科目【公民】

試題解析：題文提到甲國進口商固定以相同乙幣價格進口相同數量商品，並於交易當天將甲幣兌換成乙幣付款，因此若「花費成本降低」，代表甲幣升值（或乙幣貶值）；反之，若「花費成本最高」，則代表表示甲幣貶值（或乙幣升值）。因此依題意可推知：6 月 8 日時匯率成本較低，而 6 月 22 日時成本最高，故匯率變化應呈現 6 月上旬升高、6 月下旬降低的趨勢。

	6/8	6/22
進口成本	成本最低	成本最高
匯率變化	甲幣升值 (乙幣貶值)	甲幣貶值 (乙幣升值)

故選【B】

(D) 42. 「2023 年 4 月 15 日，北非的蘇丹爆發內戰，民間武裝集團突襲機場，衝突很快就從機場延燒到首都喀土穆，現今戰事已延燒到蘇丹全境，各國也開始撤離境內的外交人員及公民。」根據圖(十二)中的資訊判斷，上述內戰爆發的影響最可能是下列何者？



圖(十二)

- (A) 若內戰惡化，難民將會大量湧入鄰國肯亞
- (B) 蘇丹港若遭封鎖，將阻斷波斯灣的石油輸出
- (C) 南部橄欖園若遭破壞，將使全球橄欖油價格飆升
- (D) 若喀土穆被占領且鄰近大河遭控制，將影響埃及用水

翰林版第四冊，第四章 西亞與北非的衝突與轉變

科目【地理】

試題解析：從圖中地緣位置可知，蘇丹首都喀土穆位於尼羅河流域。由於尼羅河的流向是由南向北、流經蘇丹後進入埃及，因此若蘇丹內戰勢力控制了首都與鄰近河段，將直接影響下游國家的用水權益，最可能(D)牽動下游埃及的水資源安全。(A)肯亞與蘇丹並不接壤（中間隔著南蘇丹），若蘇丹因內戰引發難民外移，災民較可能湧入鄰近的埃及、查德、南蘇丹或衣索比亞等接壤國家；(B)蘇丹港位於「紅海」沿岸而非波斯灣，因此該港口運作即使受內戰波及，也不會直接阻斷「波斯灣」的石油輸出通道；(C)蘇丹的氣候並不適合種植橄欖，全球橄欖油的主產區多位於溫帶的地中海沿岸，因此蘇丹農園受損不至於使全球橄欖油價格飆升。

故選【D】

(B) 43. 我國在 2007 年修正了《民法》中關於子女姓氏的規定，將原本子女從父姓的原則，修改為父母應以書面方式，約定子女從父姓或從母姓。表(七)是 2012 至 2018 年關於新生兒約定從母姓的統計數據。根據表中資料判斷，對於修法後新生兒姓氏的變化，下列何種說法最合理？

表(七)

年分	出生登記總人數(人)	約定從母姓比例(%)
2012	229,760	1.5
2013	199,113	1.6
2014	210,383	1.8
2015	213,598	1.9
2016	208,440	2.1
2017	193,844	2.1
2018	181,601	2.3

- (A) 新生兒約定從母姓的比例顯示性別歧視日趨嚴重
- (B) 選擇新生兒姓氏時仍會受到其他社會規範的影響
- (C) 法律變遷促使多數人改變新生兒姓氏的選擇結果
- (D) 基於傳宗接代需求約定從母姓的新生兒多為男嬰



科目【公民】

試題解析：題幹指出我國自 2007 年修法後，子女姓氏已改由父母書面約定。然而，根據表中 2012 至 2018 年的數據顯示，新生兒約定從母姓的比例雖從 1.5% 微幅上升至 2.3%，但整體比例依舊極低（意即高達九成七以上的新生兒仍維持從父姓）。這反映出儘管「法律規範」已解除了過去的性別限制，但多數家庭在實際做決定時，依然深深受到傳統宗法觀念、宗族期待等「社會規範（風俗習慣）」的影響，故 (B) 選擇新生兒姓氏時仍會受到其他社會規範的影響的說法最為合理。(A) 從母姓的比例在圖表中呈現逐年微幅「上升」趨勢，因此無法據此推出性別歧視日趨嚴重的結論；(C) 數據顯示絕大多數人（97% 以上）依舊選擇傳統的從父姓，顯見法律變遷尚未促使「多數人」改變選擇結果；(D) 表格中僅提供新生兒總人數與從母姓比例，並未呈現新生兒的「性別」數據，此選項屬於缺乏證據的過度推論。

故選【B】

二、題組：(44~54 題)

閱讀下列選文，回答第 44 至 45 題：

「五腳基」為類似騎樓的建築型式，其源自歐洲國家殖民新加坡時，規定連棟店屋的一樓臨街部分，必須設置寬五呎且具有頂蓋的步行通道，作為公共空間供人行走，如圖(十三)。此種建築型式也常見於中國的某一地區，源於該地區因地形因素可耕地較少，糧食不足，部分人口外移至南洋。有些移民家族在南洋經商致富後，返回家鄉興建洋樓時將此種建築型式融入其中，至今這些洋樓成為特定時空環境下的重要紀錄。



圖(十三)

(D)44. 依據上文，建物設置「五腳基」的目的，最可能為下列何者？

- (A) 防止蚊蟲及毒蛇的侵擾
- (B) 因應冬季道路積雪行走不便
- (C) 躲避強風發生時產生的沙塵暴
- (D) 避免溼熱氣候下強烈日晒及雨淋

翰林版第四冊，第一章 東南亞

科目【地理】

試題解析：題幹中提及的「五腳基」，是指有頂蓋的臨街步行通道，其功能與臺灣常見的「騎樓」類似。選項(D)新加坡及南洋地區因地處赤道附近，氣候炎熱潮濕且午後常有對流雨，因此建築物特別設置這種有遮蔽的通道，主要目的就是為了讓行人能夠遮陽與避雨。(A) 防止蚊蟲與毒蛇侵擾，通常是東南亞傳統「高腳屋」將底層挑高的設計目的，並非五腳基步行通道的功能；(B) 新加坡屬於熱帶雨林氣候，全年皆夏、終年高溫，冬季並不會有積雪問題；(C) 沙塵暴多見於氣候乾旱的乾燥氣候區（如沙漠或內陸乾燥區），與東南亞終年潮濕多雨的環境特徵不符。

故選【D】

(C)45. 上文中提及的洋樓，最主要分布於下列中國的哪一地區？

- (A) 西部的高山地區
- (B) 北部的平原地區
- (C) 東南部沿海地區
- (D) 西北部綠洲地帶

翰林版第三冊，第二章 中國的人口

科目【地理】

試題解析：題幹中提及因「可耕地較少、糧食不足」而導致人口外移，且移民在經商致富後返鄉興建洋樓，此一空間特徵與歷史背景最符合(C)東南沿海地區（如閩、粵一帶）。該區由於地形多丘陵山地、平原狹小，在「地狹人稠」的推力下，過去常有「下南洋」往東南亞發展的海外移民潮，經商有成者往往會返鄉興建融合中西特色的洋樓。(A) 西部高山地區地處內陸、地形險峻且交通不便，海外移民條件遠不如沿海，並非南洋華僑的主要來源地；(B) 北部平原地區（如華北平原）地形平坦且農業條件較佳，在地理位置上亦不靠近南洋，不符合題文所述之空間線索；(D) 西北部綠洲地帶位於內陸乾燥區，其移民方向與經貿、文化連結多偏向中亞或西亞地區。

故選【C】

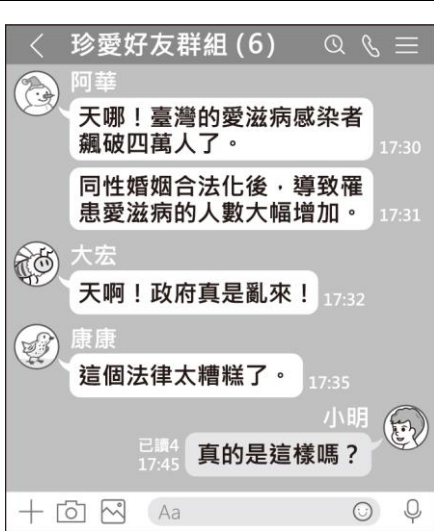


閱讀下列選文，回答第 46 至 48 題：

立法院在 2019 年通過《司法院釋字第七四八號解釋施行法》，合法保障同性婚姻。

某日阿華收到一則網路訊息，他擔心訊息中提及的疾病傳染情況惡化，覺得應該讓身邊的朋友知道這個情況，所以將相關訊息發送至各通訊群組，希望廣為流傳，如圖(十四)所示。

小明在群組上收到這則訊息，想確認訊息的真實性，於是上網查詢我國政府公開的統計資料，如表(八)。除此之外，小明也上網查詢其他各國的狀況，得知聯合國將愛滋病毒盛行率定義為 15 至 49 歲人口中感染愛滋病毒的人口比率，表(九)是其中部分國家的統計資料。



圖(十四)

表(八)

年分	新增感染者個案數(人)	累積感染者個案數(人)
2017	2,519	35,935
2018	1,993	37,919
2019	1,756	39,669
2020	1,392	41,033
2021	1,247	42,263

表(九)

國家	中華民國	新加坡	泰國	越南
盛行率(%)	0.3	0.2	1.1	0.3
國家	馬來西亞	西班牙	法國	美國
盛行率(%)	0.4	0.3	0.3	0.3

- (A) 46. 根據圖(十四)中內容判斷，阿華廣傳訊息所達成的效果，最可能是下列何者？
- (A) 透過社群網路影響公共意見
(B) 善用大眾媒體爭取婚姻自由
(C) 利用網路科技提供醫學新知
(D) 成立民間團體推動法律變革

翰林版第二冊，第四章 民主社會中的公共意見
科目【公民】

試題解析：圖中阿華在收到關於愛滋感染與同性婚姻的網路訊息後，隨即將內容轉傳至通訊軟體群組，導致群組成員產生「政府亂來」、「法律太糟糕」等強烈反彈。此一現象顯示，(A)該訊息能透過社群媒介快速擴散，進而顯著影響民眾對公共政策與法律的看法（公共意見的形成）。(B)此現象並非透過大眾媒體來爭取婚姻自由，而是利用通訊軟體散布特定訊息；(C)阿華轉傳的是未經查證、帶有誤導性的偏頗資訊，而非向民眾提供正確的醫學新知；(D)圖中群眾並未成立民間團體，亦無實際推動法律改革的具體行動，僅單純呈現網路訊息如何形塑公共意見的過程。

故選【A】

- (C) 47. 根據表(八)與表(九)的資訊判斷，關於圖(十四)中阿華所傳遞的訊息，下列何項解讀最適當？
- (A) 內容符合事實，因我國通過修法之後導致累積感染者人數增加
(B) 內容符合事實，因我國的愛滋病毒盛行率比東南亞鄰近國家高
(C) 內容與事實不符，因我國統計數據顯示新增感染者人數逐年減少
(D) 內容與事實不符，因我國的愛滋病毒盛行率比歐、美先進國家低

翰林版第二冊，第四章 民主社會中的公共意見
科目【公民】

試題解析：阿華轉傳的訊息宣稱「同性婚姻合法化後，導致罹患愛滋病的人數大幅增加」；然而，根據表(八)數據顯示，我國愛滋病「新增感染者個案數」自 2017 年的 2,519 人，逐年遞減至 2021 年的 1,247 人，整體呈現減半的趨勢，並未出現訊息所述之「大幅增加」。由此可知，該網路訊息與客觀統計事實完全不符。(A)「累積感染者」人數本就會隨時間推移而自然疊加，累積人數的上升並不同於「修法導致感染增加」，在統計邏輯上不能直接拿來證明兩者具備因果關係；(B)依據表(九)資料，我國愛滋病盛行率為 0.3%，並未高於表中所列的所有東南亞鄰近國家；(D)表(九)顯示我國的盛行率(0.3%)與西班牙、法國、美國等歐、美先進國家相同，無法呈現我國比歐、美先進國家低。

故選【C】

- (B) 48. 根據文中小明檢視網路訊息的過程判斷，顯示下列何者的重要性？
- (A) 對於跨越國界傳播的疾病，世界各國應共同合作防堵疫情
(B) 對於各種媒體傳播的資訊，閱聽大眾應具備媒體識讀能力
(C) 對於行政機關推動的政策，政府施政應秉持性別平等立場
(D) 對於網路串流平臺的作品，使用者應避免侵害智慧財產權

翰林版第二冊，第四章 民主社會中的公共意見
科目【公民】

試題解析：題幹中小明在收到網路訊息後，並未盲目相信，而是主動查詢我國政府的公開統計數據與國際資料，進一步交叉比對並判斷訊息的真偽。此一行為展現出在現代網際網路與社群媒體時代下，個人應具備查證來源、比較資料與辨識不實訊息的(B)媒體識讀能力。(A)雖然疾病確實可能跨國傳播，但題文的焦點在於「個人的資訊查證」，而非各國之間的合作防疫；(C)題文旨在利用數據檢驗網路謠言，並未討論政府在推動相關政策時是否秉持性別平等的立場；(D)內容未涉及網路影音或各類創作的智慧財產權（著作權）保障問題，故與題意不符。

故選【B】



閱讀下列選文，回答第 49 至 51 題：

自古以來人們就知道要從農作物找出有甜味的東西，製成糖來食用。因環境的不同，各地用來製糖的作物也有差異，如甜菜、楓樹等，但公認最適合製糖的是甘蔗。臺灣、印尼、菲律賓、斐濟和古巴，都曾以蔗糖為重要出口貨物。



圖(十五)

碧海泱泱 現出平疇沃壤
蔗田千萬甲 處處削苗忙
盡人力 加生產
但願甘蔗年年早登場
萬戶喜洋洋
煙突巍巍 機聲軋軋
日夜加工忙 爭取環球好市場
盡人力 加生產
要為家國民族增富強 增富強

圖(十六)

日治時期，臺灣蔗田種植面積廣大，當時政府為了增加產量，鼓勵設置新式製糖工廠，並公告製糖會社的「原料採取區域」，圖(十五)為 1928 年時的分布。戰後糖廠成為國營事業，其收入對當時國內的產業發展有極大助益，而為了提高產能，甚至有糖廠主管於 1950 年寫詞創作廠歌，每天播放以激勵員工士氣，歌詞內容如圖(十六)。

然而時過境遷，糖廠的產品不侷限於糖，也產製酒精、有機肥、飼料等，目前糖廠大多以進口粗糖再加工精製成細砂糖，部分糖廠也已轉型成觀光用途，朝向多元化發展。

- (D)49.上文中所述最適合製糖的作物，其主要生長環境最可能為下列何者？
- (A)年雨量小於 500mm
 - (B)最冷月均溫 10°C 以下
 - (C)海拔 1,000 公尺以上的山坡地
 - (D)南緯 25 度到北緯 25 度之間的地區

翰林版第二冊，第三章 農業

科目【地理】

試題解析：上文提到最適合製糖的作物是甘蔗，而臺灣、印尼、古巴等曾以蔗糖為重要出口貨物，這些地區大多位於高溫、多雨的熱帶或副熱帶平坦地區，因此主要分布在南北回歸線附近，也就是南緯 25 度到北緯 25 度之間。(A)年雨量小於 500mm 過於乾燥，不利甘蔗生長；(B)最冷月均溫 10°C 以下代表冬季偏冷，甘蔗不適合在寒冷地區大量種植；(C)海拔 1,000 公尺以上的山坡地氣溫較低、地形較陡，並非甘蔗主要種植環境。

故選【D】

- (A)50.上文廠歌歌詞的創作背景及圖(十六)描繪的情景，與下列臺灣哪一產業發展階段的特色最相符？
- (A)外銷食品加工產品扶植國內輕工業
 - (B)設立加工出口區吸引大量外商投資
 - (C)因應石油危機推動交通、能源等基礎建設
 - (D)持續推動農業轉型升級並發展高科技產業

翰林版第二冊，第六章 戰後臺灣的經濟與社會

科目【歷史】

試題解析：題文提到戰後糖廠成為國營事業，且其收入對當時國內產業發展有很大幫助。圖(十六)的廠歌歌詞也呈現「增加生產、爭取市場」的氣氛，並提到「要為家國民族增富強」，顯示當時政府重視糖業生產與外銷收益；再從題文年代為 1950 年判斷，符合 (A)1950 年代臺灣以外銷食品加工帶動經濟發展的階段，其中糖業就是重要代表。(B)主要是 1960 年代後設立加工出口區，吸引外資並發展出口導向工業，重點多為電子、紡織等加工製造業；(C)時代背景應為 1970 年代十大建設，以交通、能源等基礎建設與重工業發展為主；(D)較接近 1980 年代後的產業升級，以高科技產業為發展主軸。

故選【A】

- (C)51.上文提及糖廠的多元化發展，其最主要的目的為下列何者？

- (A)降低生產的運輸成本
- (B)減少粗糖的關稅成本
- (C)提高產業的附加價值
- (D)增加甘蔗的種植面積

翰林版第二冊，第三章 農業

科目【地理】

試題解析：文中提到糖廠面對時代變遷後，不再只生產糖，也開始製造酒精、有機肥、飼料，甚至轉型為觀光用途，代表糖廠將原本單一的製糖產業，延伸到加工製造與觀光服務等不同領域，創造出更多經濟價值，因此最符合「提高產業的附加價值」。(A)文中沒有強調運輸成本問題，若要降低運輸成本，通常應從遷廠或運輸方式改良等方向著手；(B)粗糖進口後再加工只是部分糖廠的經營方式，並非多元化發展的主要目的；(D)糖廠轉型是為了減少對單一甘蔗製糖的依賴，而不是增加甘蔗種植面積。

故選【C】



閱讀下列選文，回答第 52 至 54 題：

1843 年上海正式開港後不久，西方人就開始在上海租界內尋覓興建賽馬場的地點，舉辦賽馬活動。當時管理賽事的單位為上海跑馬總會，會員全由西方人組成。部分配合官方自強運動的中國商人家族，也想加入上海跑馬總會，卻總是被西方人拒絕。因此中國商人另行籌組萬國體育會，在租界外修建新的賽馬場，並於 1911 年開賽。

賽馬除了作為運動賽事之外，更以販售馬票的方式開放下注，以高額獎金吸引民眾關注賽事。然而國民政府為籌措財源，於 1933 至 1937 年發行「航空公路建設獎券」，靠著更便宜的彩券、更高額的獎金，將馬票打得潰不成軍。

1937 年，租界外的賽馬場受到戰火破壞，租界內的賽馬場也在 1941 年後受到日本控制。日本為了宣傳自己是東亞民族的解放者，特地開放中國人自由使用租界內的賽馬場、足球場等體育設施，之後更進一步將租界交還日本扶植的中華民國南京政府，上海租界的歷史就此走入尾聲。

(B)52.上述中國商人家族所經營的事業，最可能為下列何者？

- (A) 調查戶口作為掌握稅收依據
- (B) 投資鐵路興築與煤鐵礦開採
- (C) 承辦國營企業，推行大躍進
- (D) 設置市舶司，造船往來西洋

翰林版第三冊，第五章 西力衝擊下的東亞世界

科目【歷史】

試題解析：題文提到這些中國商人家族「配合官方自強運動」。自強運動主要內容包括學習西方技術、發展軍事工業與近代企業，例如鐵路、礦業、輪船、電報等，因此這些商人家族所經營的事業，最可能是(B)投資鐵路興築與煤鐵礦開採。(A)屬於傳統國家統治或財政管理，並非自強運動的重點；(C)大躍進是中共建國後，1958 年開始推行的政策；(D)市舶司為宋元以來管理海外貿易的機構，與自強運動無關。

故選【B】

(B)53.文中「航空公路建設獎券」的發行，最可能與下列何者有關？

- (A) 改革開放在沿海設經濟特區
- (B) 北伐結束後十年建設的展開
- (C) 庚子後新政推動的改革項目
- (D) 因應能源危機推行十大建設

翰林版四冊，第三章 現代國家的挑戰

科目【歷史】

試題解析：題文提到「航空公路建設獎券」的發行時間為 1933 至 1937 年，此時屬於南京國民政府統治時期，也就是北伐完成後到對日抗戰全面爆發前的「十年建設」階段。當時政府為推動交通、航空、公路等現代化建設，需要籌措財源，因此發行建設獎券，故最符合(B)北伐結束後十年建設的展開。(A)改革開放在沿海設經濟特區是 1978 年後中國的發展；(C)庚子後新政為 1901 年後清末推動的改革；(D)十大建設為 1970 年代臺灣因應石油危機所推動，與 1930 年代中國無關。

故選【B】

(D)54.上文中國人得以自由使用租界內體育場館，最可能與下列何者有關？

- (A) 甲午戰爭結束，中國對日本割地賠款
- (B) 一次大戰爆發，日本占領德國租借地
- (C) 日俄戰爭結束，日本驅逐俄羅斯勢力
- (D) 太平洋戰爭爆發，日本向同盟國宣戰

翰林版四冊，第四章 現代國家的變局

科目【歷史】

試題解析：題文提到 1941 年後，租界內的賽馬場受到日本控制。1941 年太平洋戰爭爆發後，日本與英、美等同盟國正式開戰，因此日本得以占領並控制上海租界中的英、美勢力範圍。日本為了宣傳自己是「東亞民族解放者」，便開放中國人使用原本由西方人掌握的賽馬場、足球場等體育設施，故最符合(D)太平洋戰爭爆發，日本向同盟國宣戰。(A)甲午戰爭結束於 1895 年，主要影響是中國割讓臺灣、澎湖等地給日本；(B)一次大戰爆發於 1914 年，日本趁機占領德國在山東的權益，時間與上海租界 1941 年的情境不符；(C)日俄戰爭結束於 1905 年，日本取得在東北、朝鮮等地的優勢，與上海租界體育場館受到日本控制無直接關係。

故選【D】

