

社會 115年國中教育會考 試題卷

____年 ____班 ____號
姓名 _____

一、單題 (1~43 題)

() 1. 農業部統計，受發生於 2024 年 7 月下旬的某次災害影響，全臺農業損失估計高達 33 億元，其中以雲林縣、臺南市、嘉義縣的損失尤為慘重，三個行政區農損合計超過全臺農損的一半。根據上述災害發生時間及受影響地區判斷，此災害最可能為下列何者？

- (A) 颱風帶來的豪大雨淹沒農田
- (B) 強勁東北季風吹襲造成水稻倒伏
- (C) 梅雨季節的連續降雨造成果樹浸水
- (D) 強勁西南風越過山脈形成熱風使作物枯黃

() 2. 日本於 2019 年 4 月起，擴大從越南、菲律賓、印尼、泰國、柬埔寨、中國、緬甸、尼泊爾和蒙古招募外籍移工，以補充其看護、餐飲和建築等行業嚴重短缺的勞動力。下列何者因同樣面臨勞動力短缺及外籍移工來源國高度重疊的關係，而受上述政策執行的衝擊最大？

- (A) 印度
- (B) 美國
- (C) 德國
- (D) 臺灣

() 3. 圖(一)是某座農場的衛星影像及其農產品部分生產過程的介紹。根據圖中資訊判斷，該農場的農業活動最可能具有下列何種特色？



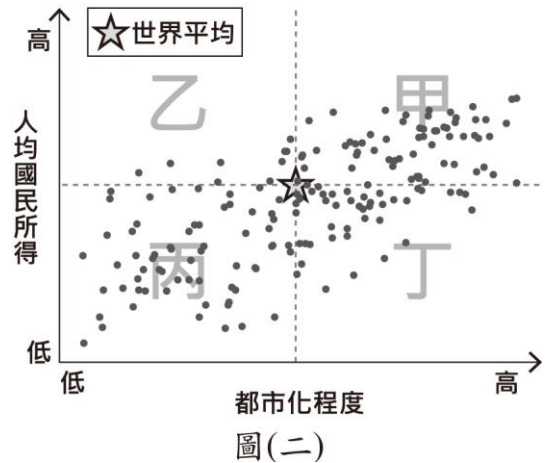
圖(一)

- (A) 作物多樣化的集約農業
- (B) 單一作物的自給性農業
- (C) 勞力密集的商业性農業
- (D) 大規模機械化的粗放農業

() 4. 某一平埔族族群居住在雪山山脈與中央山脈之間的平原地區，他們利用竹筏穿梭於溪流與海岸間，進行漁獵及採集活動。依據上述判斷，該平埔族族群的生活空間最可能位於現今哪一行政區？

- (A) 宜蘭縣
- (B) 苗栗縣
- (C) 屏東縣
- (D) 臺東縣

() 5. 圖(二)為 2019 年世界多數國家都市化程度與該國人均國民所得的統計圖，圖中以此兩種統計值的世界平均值為基準，劃分成甲、乙、丙、丁四個區塊。根據各洲經濟及都市發展特色判斷，歐洲西半部的國家最可能位於圖中哪一區塊？



- (A) 甲
- (B) 乙
- (C) 丙
- (D) 丁

() 6. 羅馬帝國時期的作家普魯塔克在書中提到，西元前八世紀的某政權曾有「殺嬰」習俗，將不夠健壯的嬰兒放在山上等死。然而部分研究指出當時先天有缺陷的人仍受到照顧，所謂的「棄嬰山」可能只是處決罪犯之處，且文獻上也提到該政權曾選出身體有缺陷的國王。普魯塔克的說法，可能是基於當時人們熟知該政權過於重視軍事教育，所產生的錯誤印象。上述政權最可能是下列何者？

- (A) 埃及
- (B) 蘇美
- (C) 巴比倫
- (D) 斯巴達

() 7. 圖(三)是一幅漫畫，其內容最可能與下列何者有關？



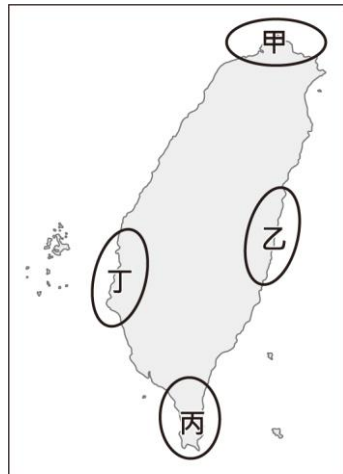
圖(三)

- (A) 戈巴契夫的經濟改革成效有限
- (B) 二次大戰結束後歐洲百廢待舉
- (C) 徵稅問題導致波士頓茶葉事件
- (D) 美國股市崩盤引發經濟大恐慌

- ()8. 「不安的情緒逐漸發酵，社會上出現『牙刷主義』一說：權貴們將資產轉至外國，並取得外國居留權，萬一局勢惡化，只要帶牙刷就能遠走高飛。政府為因應民心浮動、《中美共同防禦條約》不久後失效等危機，再次端出數年前『莊敬自強，處變不驚』口號，發起愛國捐獻、青年從軍報國，電臺日夜播放〈龍的傳人〉等愛國歌曲。」上述內容最可能與下列何者有關？

- (A)美國在韓戰後協防臺灣海峽
(B)美國宣布將與中華民國斷交
(C)國共內戰使政府敗退至臺灣
(D)臺灣受到同盟國軍機的空襲

- ()9. 十七世紀中期，臺灣某地區原住民因能說西班牙語，且多人曾受洗為天主教徒，所以被荷蘭聯合東印度公司認為是「具西班牙人特質」的族群。上述族群最可能分布在圖(四)甲、乙、丙、丁哪一區域？



圖(四)

- (A)甲
(B)乙
(C)丙
(D)丁

- ()10. 家住屏東的小萱在觀賞日本動畫時，發現劇中主角的考卷上每一道試題都畫上「✓」，但卻是拿到零分，與自己考卷全被畫上「✓」時拿到滿分是不一樣的情況。查詢資料後，小萱才知道在日本畫「✓」與畫「✕」代表的都是有錯誤，而把答案畫上「○」才是代表答對的意思。上述內容最適合用來說明下列哪一現象？

- (A)各國移民的習俗多元並存
(B)社會制度隨著時間而變動
(C)不同文化間存在些許差異
(D)文化交流後產生位階高低

- ()11. 圖(五)是新奇科技購物網站更新前的網頁資訊，某日該網頁內容調整後，幾分鐘內商品突然銷售一空，甚至還多了數百筆的訂單等候補貨。下列何者最可能是造成上述情況的原因？



圖(五)

- (A)供貨量變更為 19 臺
(B)供貨量變更為 999 臺
(C)售價變更為 9,999 元
(D)售價變更為 20,999 元

- ()12. 臭蟲又稱床蝨，因常躲在床墊中而得名，人類被叮咬後皮膚會紅腫且奇癢無比。臭蟲會隨人群移動而擴散，例如：2023 年法國爆發臭蟲危機，因觀光客、商務旅客及國際移工的遷移，使得臭蟲經由藏在行李中，蔓延至許多國家。上述內容最主要在探討下列何項議題？

- (A)國際移工引入帶來的文化衝突
(B)區域糾紛擴大引發的民生困境
(C)高度工業化與氣候變遷的關係
(D)經濟全球化對人類生活的影響

- ()13. 表(一)為二位我國某縣縣民的部分資料，根據我國法律規定判斷，關於此二位縣民的敘述，下列何者正確？

表(一)

姓名	陳小花	吳阿杰
年齡	25 歲	28 歲
設籍時間	7 個月	5 個月
現況	受監護宣告	被宣告褫奪公權

- (A)皆具備完全行為能力
(B)皆曾受到刑事處罰判決
(C)皆無法參選該縣公職人員
(D)皆不具備該縣縣長投票資格

- ()14. 小蔓一歲時親生父母離婚，之後與母親同住。四歲時，母親與阿德再婚，小蔓和他們兩人一起組成現在的家庭。若阿德婚後未曾進行任何法律程序改變家中成員關係，僅根據上述內容判斷，小蔓與阿德間的親屬關係應為下列何者？

- (A)姻親
(B)配偶
(C)旁系血親
(D)直系血親

- ()15. 一處坐落於海拔 2,430 公尺山脊上的古城遺跡，是美洲三大古文明代表性的建築之一，其建築精妙之處是將打磨過的方形石塊疊砌起來，且在沒有使用砂漿的情況下使其能如拼圖般緊密結合。此外，建築中的梯形門窗和向內微傾斜的牆面等，皆可降低建築物在地震中倒塌的可能性。上述古城遺跡最可能位於圖(六)中何處？



圖(六)

- (A)甲
(B)乙
(C)丙
(D)丁

- () 16.表(二)顯示 2016 至 2019 年歐洲與亞洲之間，行經北極地區某條海運航線的航行次數統計。根據表中數字判斷，此種變化除了受到全球經濟持續成長所帶動的海運需求增加外，最可能還受下列何者的影響？

表(二)

年分	航行次數(次)
2016	1,705
2017	1,908
2018	2,022
2019	2,694

- (A)海冰融化大幅增加
(B)全球生態保育意識興起
(C)巴拿馬運河通行費調漲
(D)《區域全面經濟夥伴協定》生效

- () 17.報導指出：「在俄烏戰爭爆發之前的 3 年裡，歐盟成員國平均每月從俄羅斯進口約 1,520 萬噸原油和石油產品，到了 2023 年 3 月，該值已下降至 140 萬噸。歐盟預計 2027 年切斷從俄羅斯的化石燃料進口，擺脫對其能源依賴。」下列何項措施無助於達成上述目標？

- (A)制定公共場所更嚴格的暖氣供應標準
(B)促使石油輸出國家組織維持減產政策
(C)與其他第三國簽署天然氣的進口協議
(D)積極發展綠能以增加替代性能源產量

- () 18.中國黃河是世界上含沙量最高的河流，但 2024 年 1 月，有遊客在陝西壺口瀑布拍攝到「清流飛瀑」的壯觀景象，其實早在 2020 年就曾有報導指出，壺口的黃河河水變清了。事實上「黃河清」很罕見，歷史上的記載只有 43 次。黃河於 2024 年 1 月出現上述景象，最可能與下列何者關係較為密切？

- (A)瀑布上游流經黃土高原，支流帶入大量泥沙
(B)瀑布上游實施造林固沙政策，減少泥沙流入
(C)瀑布下游恰逢雨季，大量降水使得流量增加
(D)瀑布下游興築壩堤，以壩堤攔阻泥沙變良田

- () 19.圖(七)摘錄自中國歷史上某一組織的文件，根據內容判斷，此組織最可能為下列何者？

- (A)義和團
(B)同盟會
(C)滿洲國
(D)中國共產黨

奉天命、奉佛法，誅殺洋人、消滅教匪，以保國家。
每當神明附身，即能辨識對方是否為教匪，從未錯殺一人。

圖(七)

教匪：此處指西方宗教的傳教士和教徒。

- () 20.表(三)是中國歷史上三則與生活相關的資料：上述資料最可能與下列何者有關？

表(三)

資料一	西元七世紀時，從中亞引進的馬匹最受歡迎，其高大、速度快，深受貴族和皇室喜愛。
資料二	西元七世紀，羊肉的消費量大為提高。八世紀上半葉，隴右(今甘肅)飼養的羊隻，成長了二倍多。
資料三	西元八世紀中期，貴族婦女騎馬出門，戴胡帽並展露出妝容。

- (A)商周到秦漢的族群交流
(B)魏晉到隋唐的民族互動
(C)宋朝到元朝的國際交流
(D)明清時期東亞世界的變遷

- () 21.圖(八)為臺灣某一官方資料中，所收錄當時四種公務人員制服樣式圖。根據內容判斷，此官方資料最可能是下列何者？



圖(八)

- (A)《臺灣府志》
(B)《熱蘭遮城日誌》
(C)《中華民國行政院公報》
(D)《臺灣總督府公文類纂》

志：記錄地方事物的書籍。
類纂：分類整理的檔案。

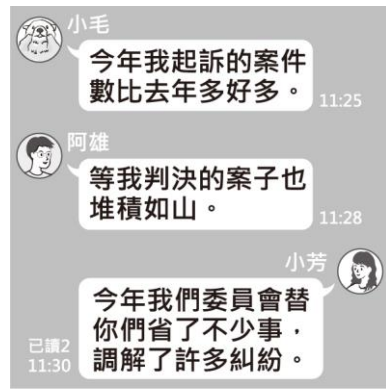
- () 22.十九世紀晚期美國政府取得一處亞洲殖民地，曾陷入要延續先前的殖民體系，或允許該地獨立的兩難。美國總統決定延續殖民體系，結合當時流行的學說，發表一段談話：「美國必須以現代教育和基督教文化，教化欠缺能力的殖民地人民，提升其素質。靠著神的恩典，盡我們所能做到最好。」上述談話，最能體現下列何者？

- (A)因信得救
(B)天賦人權
(C)社會達爾文主義
(D)極權政治的興起

- () 23.甲國面臨勞動力不足的窘境，因此該國政府研擬放寬外國籍人士申請永久居留的條件，並開放配偶、親屬可一同移入長期居留，希望提高外國籍勞工居住在該國提供勞動力的意願。藉由上述政策而取得在甲國永久居留資格者，與甲國國民在權利義務的異同，若從我國法律規定的角度分析，下列何項敘述最適當？

- (A)皆具有參與公民投票的資格
(B)皆具有發表時事評論的自由
(C)皆具有擔任民意代表的機會
(D)皆具有接受國民教育的義務

()24.圖(九)是三位好友在通訊軟體上的聊天內容，根據三人的對話判斷其身分，下列何者最可能是圖中提及三種職權範圍內都可處理的糾紛？



圖(九)

(A)甲趁乙不注意時偷拿乙的皮包

(B)甲遭乙騎車撞倒導致手腳擦傷

(C)甲向乙借一百萬元卻逾期不還

(D)甲不服乙開立的交通違規罰單

()25.「我國原本由宏都拉斯進口大量白蝦，但2023年與該國斷交後，我國恢復對該國產品課徵關稅，部分進口業者的營運遭受衝擊，進口量大幅下滑。我國官員受訪時提及，2025年將開放貝里斯的白蝦零關稅進口至我國，以增加商品供應來源。」僅根據上述內容判斷，關於此二項進口政策變化產生的各別影響，下列何項推論最合理？

(A)受到對貝里斯政策的影響，我國市場上白蝦的售價下降

(B)受到對貝里斯政策的影響，貝里斯的貿易出超金額下降

(C)受到對宏都拉斯政策的影響，宏都拉斯的貿易出超金額上升

(D)受到對宏都拉斯政策的影響，我國白蝦市場的競爭程度上升

()26.在公民課的分組活動中，小華與同組同學打算以短劇的方式，呈現民眾解決民事紛爭的途徑及結果。表(四)是該組同學在討論時提出的各種情境，若小華負責編寫劇本，他應選擇下列何項組合才符合我國的法律規定？

表(四)

途徑	甲	當事人至法院提告對方違反契約
	乙	被害人委任律師向法院提出自訴
結果	丙	被告遭到法院判決處以罰金
	丁	雙方在法院達成訴訟上和解

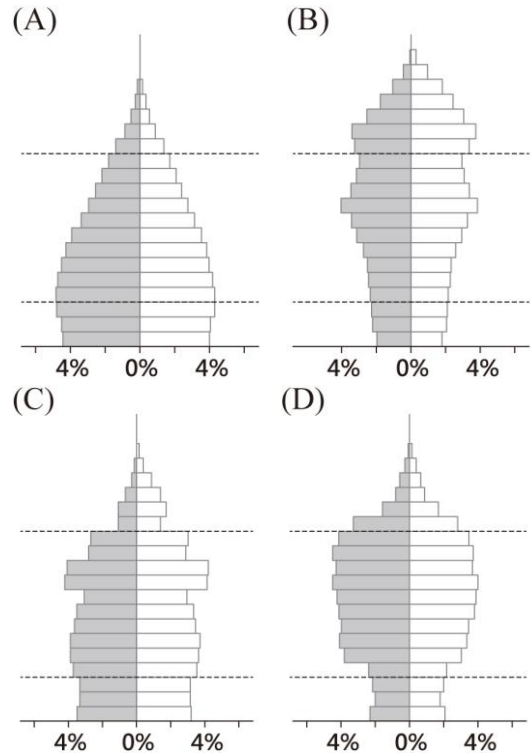
(A)甲、丙

(B)甲、丁

(C)乙、丙

(D)乙、丁

()27.因應國際趨勢，跨國企業近年將部分生產線從中國分散至其他國家。其中甲國2020年的人口金字塔顯示壯年人口比例近70%，且未來數十年仍占極高比例，再加上該國工資明顯低於中國，而成為跨國企業布局的主要選擇之一。依據上述資訊，甲國的人口金字塔最可能為下列何者？



()28.「2018年1月23日17時32分(臺灣時間)，於阿拉斯加南方海域發生規模8.0的地震，震央在西經149.20度，北緯56.00度。該區域的海嘯警報中心研判可能引發海嘯，經初步推算，該地震所引發的海嘯，將不會影響臺灣。」根據震央位置判斷，上述海嘯警報中心應是下列何者？

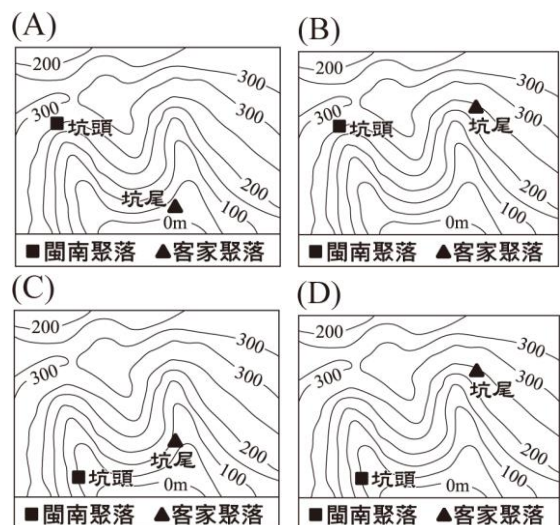
(A)太平洋海嘯警報中心

(B)印度洋海嘯警報中心

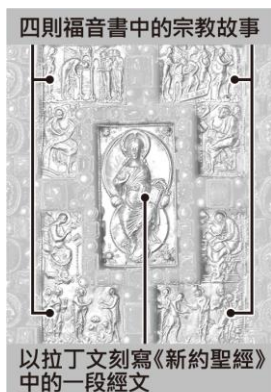
(C)加勒比海海嘯警報中心

(D)東北大西洋暨地中海及相連海域海嘯警報中心

()29.根據學者研究，臺灣地名中的「坑」為閩南族群與客家族群通用來指稱溪谷的用字，常與「頭」、「尾」連用來辨別聚落在溪谷內的位置。例如閩南族群的地名「坑頭」，是指聚落位在溪流的上游；客家族群則是依開墾順序命名，拓墾通常由河谷下游往上游進行，最後開墾的聚落則以「坑尾」命名。下列哪一示意圖最符合上述兩族群坑頭及坑尾聚落位置的命名原則？



- ()30.以下為一份契約的內容：「立賣契人竹塹社一均。因本社稅賦繁重，加上能捕到的鹿變少，經過內部共同討論，願將本社管轄的貓兒錠一處草地，由漢人郭弈榮承買，時價銀二十兩。該處土地由郭弈榮開築埤圳，招募佃戶，開墾後報官取得土地權利，並且每年仍補貼竹塹社的稅賦銀二十兩。」對於上述契約內容的理解，下列何者最適當？
- (A)官府的賦稅，影響原住民土地經營方式
(B)竹塹社原住民，當時被官府歸類為生番
(C)漢人承買土地，是為了捕獵更多的鹿隻
(D)竹塹社受到漢人脅迫，舉社向東部遷徙
- ()31.「法國國王為課徵新稅以解決財政危機，決定重新恢復自 1614 年以來未再召開的諮詢機關，各界為此選出 1,139 名代表，來到凡爾賽宮進行稅制改革。代表們帶著來自全國各階層的陳情書，其內容遠遠超出財政危機的問題。」上述「諮詢機關」，最可能是下列何者？
- (A)巴黎和會
(B)三級會議
(C)關稅同盟
(D)聯合國大會
- ()32.一位檢察官在法庭陳述意見時提到：「本次的違法事件，就是臺灣人意圖謀反，目的是從帝國手中奪取臺灣。帝國目前對臺灣的統治，實在過於優厚，而臺灣人不知感恩，竟然要求設置臺灣議會。臺灣人如果反對現行統治方針，不願做日本國民，那就離開臺灣吧。」上述「統治方針」應是下列何者？
- (A)實施軍事戒嚴
(B)終止動員戡亂
(C)貫徹民族自決
(D)推行內地延長
- ()33.以下是中國某時期重要人才選用方式的敘述：「脫穎而出者由皇帝親授官職，經過十餘年的歷練，就有機會執掌國政。當時人為之曾評論道：『就算是今日帶領數十萬大軍伐遼，從契丹手中奪回燕雲十六州，其榮耀都比不上呢！』」上文「脫穎而出」的方式，最可能為下列何者？
- (A)通過科舉考試入仕
(B)朝天朝納貢受冊封
(C)奉旨前往德國留學
(D)依九品官人法獲評上品
- ()34.圖(十)是某博物館所展出的文物。根據圖中內容判斷，此文物最可能於何時何地製作？
- (A)西元前六世紀的西亞地區
(B)西元前一世紀的南歐地區
(C)西元九世紀的西歐地區
(D)西元十四世紀的中南美洲地區



圖(十)

- ()35.老師在課堂上講解權力分立的概念，說明如何透過分權制衡的機制，以避免政府濫權或侵害人民的權利，這種政府體制運作的原則，廣為多數民主國家所採用。下列何者的互動關係符合上述概念？
- (A)總統任命執政黨的黨員擔任行政院院長
(B)縣長推動觀光活動以籌措地方政府財源
(C)行政院對於窒礙難行的法案提出覆議
(D)民眾為表達對政策不滿上街遊行抗議
- ()36.臺北市為維護選舉時的市容景觀和秩序，制定《臺北市競選廣告物管理自治條例》，透過地方法規限制競選廣告的設置，違規者將被處以罰鍰，並限期移除廣告。但有人認為該法規的規範不夠明確，參選者仍可以形象廣告的方式刊登廣告，以致許多民眾覺得競選廣告並沒有減少，希望相關單位能予以修正。關於上述法規的敘述，下列何者最適當？
- (A)臺北市採行正向誘因，處理競選廣告違規問題
(B)該條例若需修正，應由立法院依照規定三讀通過
(C)違規受罰者若不服處分，可提起訴願進行權利救濟
(D)政府透過刑事處罰手段，預防選舉期間發生犯罪行為
- ()37.甲團體常透過統計數據評鑑某中央政府機關的公職人員，並在社群媒體上公布報告，表(五)為其中一位公職人員的統計數據。有民眾認為這些數據僅能呈現工作量，無法看出工作品質，因此留言建議可以增列其他評鑑項目。根據上述內容判斷，增列下列哪一項最有助於評鑑此種公職人員的表現？
- (A)對不當施政的糾正案件數
(B)各類訴訟案件的審理進度
(C)公共工程預算的編列金額
(D)對各部會首長的質詢內容
- ()38.有環保團體推出「掃了再買」APP，民眾只要使用這個 APP 掃描商品條碼，就能看到商品製造商有沒有因違反環保法規遭罰的紀錄。該團體希望藉此能提供消費者更充足的資訊，幫助他們在購物時判斷是否要購買，甚至改變原先的選擇，並期許生產者為其生產行為負起責任，而優良企業也能獲得消費者肯定。關於上述環保團體推出的手機 APP，下列敘述何者最適當？
- (A)有助於增加消費者的購物支出
(B)呈現出法律變革影響科技發展
(C)揭露各企業曾經發生的民事紛爭
(D)藉由影響個人偏好改變消費行為

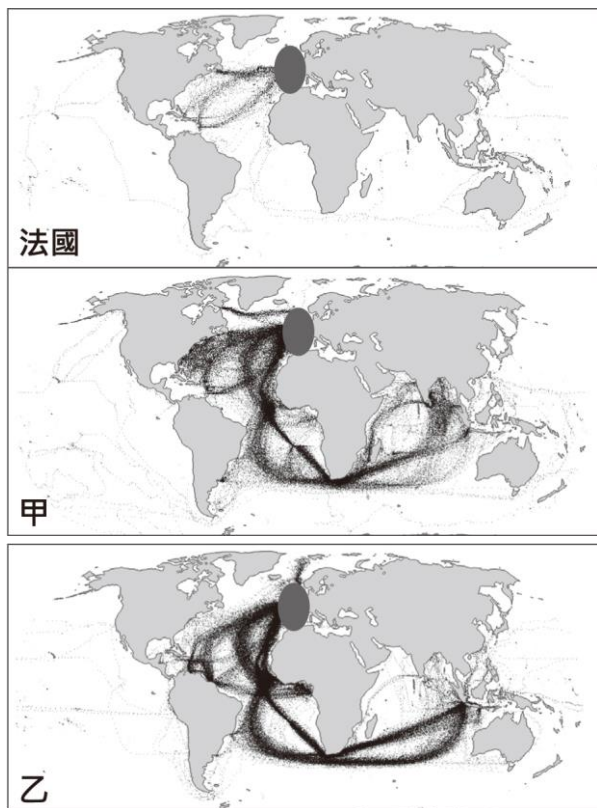
表(五)

各項會議平均出席率	91.7%
法律修正案的提案件數	12 件
預算審查參與率	80.3%

() 39. 「官軍從鹿港登陸以後，很快就摧破賊巢、痛殲匪眾。只是現在『逆首』竄入內山，而內山情勢複雜，因此搜捕的工作必須加快。昨日又有官員建議，為了紀念這次事件，除了將諸羅改名嘉義外，臺灣二字也應該一併改名。我認為這就是放著修建城池、增設兵卒的正經事不管，只留心在沒用的地方，以後不許再提臺灣改名的事。」文中「逆首」最可能是下列何者？

- (A) 朱一貴
- (B) 林爽文
- (C) 余清芳
- (D) 莫那魯道

() 40. 某研究案根據 1750 至 1850 年代各國船隻的航海日誌，將航行軌跡繪製成圖(十一)。儘管船隻可能前往世界各地，但仍以各國殖民地或勢力範圍為主要目的地，例如圖中法國船隻，軌跡主要集中於北美和西印度群島的法國殖民地。圖中「甲」、「乙」最可能是下列何者？



圖(十一)

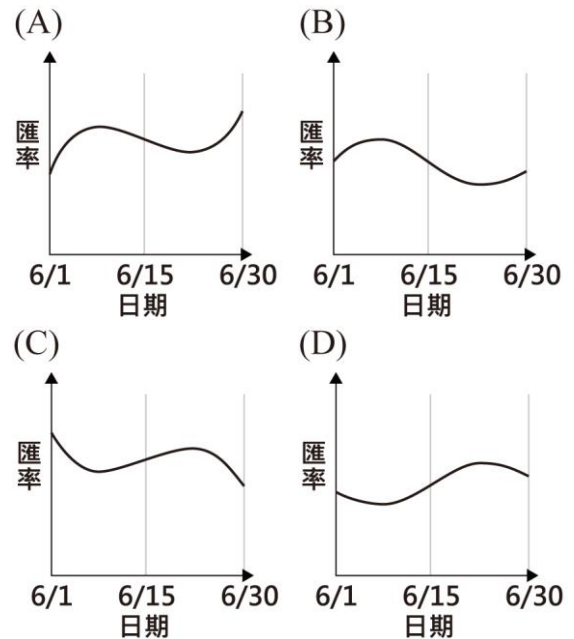
- (A) 甲：英國、乙：荷蘭
- (B) 甲：荷蘭、乙：西班牙
- (C) 甲：葡萄牙、乙：英國
- (D) 甲：西班牙、乙：葡萄牙

() 41. 甲國進口商小莫固定在每星期一、四，以相同乙幣價格，從乙國進口相同數量的某商品至國內販售，並在交易當天將甲幣兌換為乙幣完成付款，表(六)是他在 2020 年 6 月 8 日及 6 月 22 日的受訪內容。根據表中內容判斷，下列何者最可能是該年 6 月時，每一甲幣兌換乙幣的匯率變化？

表(六)

日期	受訪內容
6 月 8 日 星期一	就匯率來說，6 月初至今，每次花費的成本一次比一次低。
6 月 22 日 星期一	就匯率來說，今天所花費的成本是 6 月至今各次中最高的。

易當天將甲幣兌換為乙幣完成付款，表(六)是他在 2020 年 6 月 8 日及 6 月 22 日的受訪內容。根據表中內容判斷，下列何者最可能是該年 6 月時，每一甲幣兌換乙幣的匯率變化？



() 42. 「2023 年 4 月 15 日，北非的蘇丹爆發內戰，民間武裝集團突襲機場，衝突很快就從機場延燒到首都喀土穆，現今戰事已延燒到蘇丹全境，各國也開始撤離境內的外交人員及公民。」根據圖(十二)中的資訊判斷，上述內戰爆發的影響最可能是下列何者？



圖(十二)

- (A) 若內戰惡化，難民將會大量湧入鄰國肯亞
- (B) 蘇丹港若遭封鎖，將阻斷波斯灣的石油輸出
- (C) 南部橄欖園若遭破壞，將使全球橄欖油價格飆升
- (D) 若喀土穆被占領且鄰近大河遭控制，將影響埃及用水

()43.我國在 2007 年修正了

《民法》中關於子女姓氏的規定，將原本子女從父姓的原則，修改為父母應以書面方式，約定子女從父姓或從母姓。表(七)是 2012 至 2018 年關於新生兒約定從母姓的統計數據。根據表中資料判斷，對於修法後新生兒姓氏的變化，下列何種說法最合理？

表(七)

年分	出生登記總人數(人)	約定從母姓比例(%)
2012	229,760	1.5
2013	199,113	1.6
2014	210,383	1.8
2015	213,598	1.9
2016	208,440	2.1
2017	193,844	2.1
2018	181,601	2.3

(A)新生兒約定從母姓的比例

顯示性別歧視日趨嚴重

(B)選擇新生兒姓氏時仍會

受到其他社會規範的影響

(C)法律變遷促使多數人

改變新生兒姓氏的選擇結果

(D)基於傳宗接代需求

約定從母姓的新生兒多為男嬰

二、題組：(44~54 題)

閱讀下列選文，回答第 44 至 45 題：

「五腳基」為類似騎樓的建築型式，其源自歐洲國家殖民新加坡時，規定連棟店屋的一樓臨街部分，必須設置寬五呎且具有頂蓋的步行通道，作為公共空間供人行走，如圖(十三)。此種建築型式也常見於中國的某一地區，源於該地區因地形因素可耕地較少，糧食不足，部分人口外移至南洋。有些移民家族在南洋經商致富後，返回家鄉興建洋樓時將此種建築型式融入其中，至今這些洋樓成為特定時空環境下的重要紀錄。



圖(十三)

()44.依據上文，建物設置「五腳基」的目的，最可能為下列何者？

(A)防止蚊蟲及毒蛇的侵擾

(B)因應冬季道路積雪行走不便

(C)躲避強風發生時產生的沙塵暴

(D)避免溼熱氣候下強烈日晒及雨淋

()45.上文中提及的洋樓，最主要分布於下列中國的哪一地區？

(A)西部的高山地區

(B)北部的平原地區

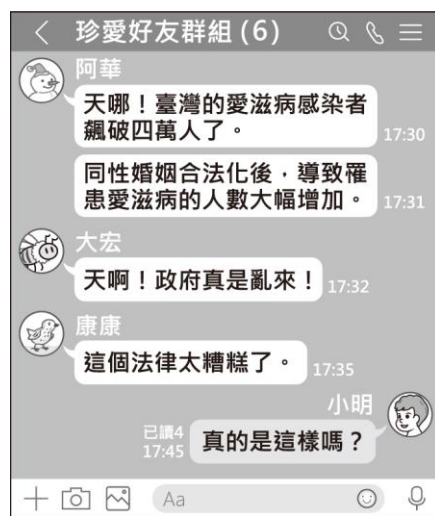
(C)東南部沿海地區

(D)西北部綠洲地帶

閱讀下列選文，回答第 46 至 48 題：

立法院在 2019 年通過《司法院釋字第七四八號解釋施行法》，合法保障同性婚姻。

某日阿華收到一則網路訊息，他擔心訊息中提及的疾病傳染情況惡化，覺得應該讓身邊的朋友知道這個情況，所以將相關訊息發送至各通訊群組，希望廣為流傳，如圖(十四)所示。



圖(十四)

小明在群組上收到這

則訊息，想確認訊息的真實性，於是上網查詢我國政府公開的統計資料，如表(八)。除此之外，小明也上網查詢其他各國的狀況，得知聯合國將愛滋病毒盛行率定義為 15 至 49 歲人口

表(八)

年分	新增感染者個案數(人)	累積感染者個案數(人)
2017	2,519	35,935
2018	1,993	37,919
2019	1,756	39,669
2020	1,392	41,033
2021	1,247	42,263

中感染愛滋病毒的人口比率，表(九)是其中部分國家的統計資料。

表(九)

國家	中華民國	新加坡	泰國	越南
盛行率(%)	0.3	0.2	1.1	0.3
國家	馬來西亞	西班牙	法國	美國
盛行率(%)	0.4	0.3	0.3	0.3

()46.根據圖(十四)中內容判斷，阿華廣傳訊息所達成的效果，最可能是下列何者？

(A)透過社群網路影響公共意見

(B)善用大眾媒體爭取婚姻自由

(C)利用網路科技提供醫學新知

(D)成立民間團體推動法律變革

()47.根據表(八)與表(九)的資訊判斷，關於圖(十四)中阿華所傳遞的訊息，下列何項解讀最適當？

(A)內容符合事實，因我國通過修法之後導致累積感染者人數增加

(B)內容符合事實，因我國的愛滋病毒盛行率比東南亞鄰近國家高


(C)內容與事實不符，因我國統計數據顯示新增感染者人數逐年減少

(D)內容與事實不符，因我國的愛滋病毒盛行率比歐、美先進國家低

- ()48.根據文中小明檢視網路訊息的過程判斷，顯示下列何者的重要性？
- (A)對於跨越國界傳播的疾病，世界各國應共同合作防堵疫情
- (B)對於各種媒體傳播的資訊，閱聽大眾應具備媒體識讀能力
- (C)對於行政機關推動的政策，政府施政應秉持性別平等立場
- (D)對於網路串流平臺的作品，使用者應避免侵害智慧財產權


閱讀下列選文，回答第 49 至 51 題：

自古以來人們就知道要從農作物找出有甜味的東西，製成糖來食用。因環境的不同，各地用來製糖的作物也有差異，如甜菜、楓樹等，但公認最適合製糖的是甘蔗。臺灣、印尼、菲律賓、斐濟和古巴，都曾以蔗糖為重要出口貨物。



圖(十五)

碧海泱泱 現出平疇沃壤
蔗田千萬甲 處處削苗忙
盡人力 加生產
但願甘蔗年年早登場
萬戶喜洋洋
煙突巍巍 機聲軋軋
日夜加工忙 爭取環球好市場
盡人力 加生產
要為家國民族增富強 增富強



圖(十六)

日治時期，臺灣蔗田種植面積廣大，當時政府為了增加產量，鼓勵設置新式製糖工廠，並公告製糖會社的「原料採取區域」，圖(十五)為 1928 年時的分布。戰後糖廠成為國營事業，其收入對當時國內的產業發展有極大助益，而為了提高產能，甚至有糖廠主管於 1950 年寫詞創作廠歌，每天播放以激勵員工士氣，歌詞內容如圖(十六)。

然而時過境遷，糖廠的產品不侷限於糖，也產製酒精、有機肥、飼料等，目前糖廠大多以進口粗糖再加工精製成細砂糖，部分糖廠也已轉型成觀光用途，朝向多元化發展。

- ()49.上文中所述最適合製糖的作物，其主要生長環境最可能為下列何者？
- (A)年雨量小於 500mm
- (B)最冷月均溫 10°C 以下
- (C)海拔 1,000 公尺以上的山坡地
- (D)南緯 25 度到北緯 25 度之間的地區
- ()50.上文廠歌歌詞的創作背景及圖(十六)描繪的情景，與下列臺灣哪一產業發展階段的特色最相符？
- (A)外銷食品加工產品扶植國內輕工業
- (B)設立加工出口區吸引大量外商投資
- (C)因應石油危機推動交通、能源等基礎建設
- (D)持續推動農業轉型升級並發展高科技產業

- ()51.上文提及糖廠的多元化發展，其最主要的目的為下列何者？
- (A)降低生產的運輸成本
- (B)減少粗糖的關稅成本
- (C)提高產業的附加價值
- (D)增加甘蔗的種植面積

閱讀下列選文，回答第 52 至 54 題：

1843 年上海正式開港後不久，西方人就開始在上海租界內尋覓興建賽馬場的地點，舉辦賽馬活動。當時管理賽事的單位為上海跑馬總會，會員全由西方人組成。部分配合官方自強運動的中國商人家族，也想加入上海跑馬總會，卻總是被西方人拒絕。因此中國商人另行籌組萬國體育會，在租界外修建新的賽馬場，並於 1911 年開賽。

賽馬除了作為運動賽事之外，更以販售馬票的方式開放下注，以高額獎金吸引民眾關注賽事。然而國民政府為籌措財源，於 1933 至 1937 年發行「航空公路建設獎券」，靠著更便宜的彩券、更高額的獎金，將馬票打得潰不成軍。

1937 年，租界外的賽馬場受到戰火破壞，租界內的賽馬場也在 1941 年後受到日本控制。日本為了宣傳自己是東亞民族的解放者，特地開放中國人自由使用租界內的賽馬場、足球場等體育設施，之後更進一步將租界交還日本扶植的中華民國南京政府，上海租界的歷史就此走入尾聲。

- ()52.上述中國商人家族所經營的事業，最可能為下列何者？
- (A)調查戶口作為掌握稅收依據
- (B)投資鐵路興築與煤鐵礦開採
- (C)承辦國營企業，推行大躍進
- (D)設置市舶司，造船往來西洋
- ()53.文中「航空公路建設獎券」的發行，最可能與下列何者有關？
- (A)改革開放在沿海設經濟特區
- (B)北伐結束後十年建設的展開
- (C)庚子後新政推動的改革項目
- (D)因應能源危機推行十大建設
- ()54.上文中國人得以自由使用租界內體育場館，最可能與下列何者有關？
- (A)甲午戰爭結束，中國對日本割地賠款
- (B)一次大戰爆發，日本占領德國租借地
- (C)日俄戰爭結束，日本驅逐俄羅斯勢力
- (D)太平洋戰爭爆發，日本向同盟國宣戰